



**SINDHI HIGH SCHOOL, BENGALURU**  
**HALF-YEARLY EXAMINATION [2021-22]**  
**SUBJECT: ENGLISH LANGUAGE & LITERATURE**

**Class: IX**  
**Date: 4.10.2021**

**Max Marks: 40**  
**Time: 90 mins.**  
**No. of sides: 13**

**General Instructions:**

1. The Question Paper contains THREE sections.
2. Section A-READING has 18 questions. Attempt a total of 14 questions, as per specific instructions for each question.
3. Section B-WRITING & GRAMMAR has 12 questions. Attempt a total of 10 questions, as per specific instructions for each question.
4. Section C-LITERATURE has 30 questions. Attempt 26 questions, as per specific instructions for each question.
5. All questions carry equal marks.
6. There is no negative marking.

**SECTION A - READING**

**I. Read the passage given below.**

1. While we may not all possess the ability to paint the Mona Lisa, compose like Mozart, cook like Nigella Lawson, or write like Hemingway, every human being is born with a special talent. Some people are able to find and learn to express their talents early on while others might discover them later in life. We are all creative beings, and creative beings need to create as much as we need to eat, breathe and sleep. Creativity has different meaning for different people but creativity is often stifled. Its importance is not valued as much as it should be, which can have a powerful effect on one's overall ability to achieve true happiness and success in life. If we stifle our creativity or discount its importance, we create blockages in other aspects of life, which can hinder our ability to move forward in different areas like health, work and personal relationships.
2. No matter how busy one's schedule is, it is very important to schedule time for self-care, specifically for expressing creativity. Trying out different hobbies is a great way to explore one's creativity because it can be very enjoyable. Some people find one hobby and fall in love with it so much it becomes their passion. For example, I love to play with natural ingredients and blend essential oils. Making all-natural, organic skin care products and teaching the recipes in my community workshops is one of my passions. Some people prefer to try different hobbies for shorter periods of time, or change them up each season to stay interested and keep trying different things.
3. One great thing about hobbies is that there are no set rules. Each person gets to decide how often they want to do it and whether they want to stick with it for a long time or move on to something else after trying it for a few weeks or months.

4. Another valuable aspect of hobbies is that one can enjoy them quietly when enjoying some downtime alone, or as a way to become involved with a community. Book clubs, art or cooking classes, writers' workshops, knitting circles, gardening clubs - nearly every type of hobby presents an opportunity to meet with other likeminded individuals and build relationships. This could be beneficial on both a personal and professional level. In any business, especially the salon and spa business, teamwork is vital to success.
5. Hobbies can be a great way to create a community among co-workers either in or outside of the spa. Sometimes if co-workers are not getting along, having them participate in a seemingly non-work related hobby, where all participants are novices, can be great for creating common ground. Often times, the simple act of providing an opportunity for a person to find and express his or her own inherent creative talents produces significant positive changes. When people experience something as simple and profound as creating something beautiful from seemingly nothing, they begin to view the world - and daily environments - in a fresh, new way.

**Based on your understanding of the passage, answer any eight out of the ten questions by choosing the correct option.**

**1. How can one explore one's creativity?**

- a) Participating in work related activities.
- b) Trying out different hobbies.
- c) By stifling one's interests.
- d) By creating blockages on other parts of life.

**2. The importance of creativity is not valued as much as it should be because \_\_\_\_\_**

- a) it has different meanings to different people.
- b) it's often stifled.
- c) it can have a powerful effect on one's overall ability
- d) people prefer to try different hobbies for shorter periods of time

**3. Hobbies build community or social relationship by:**

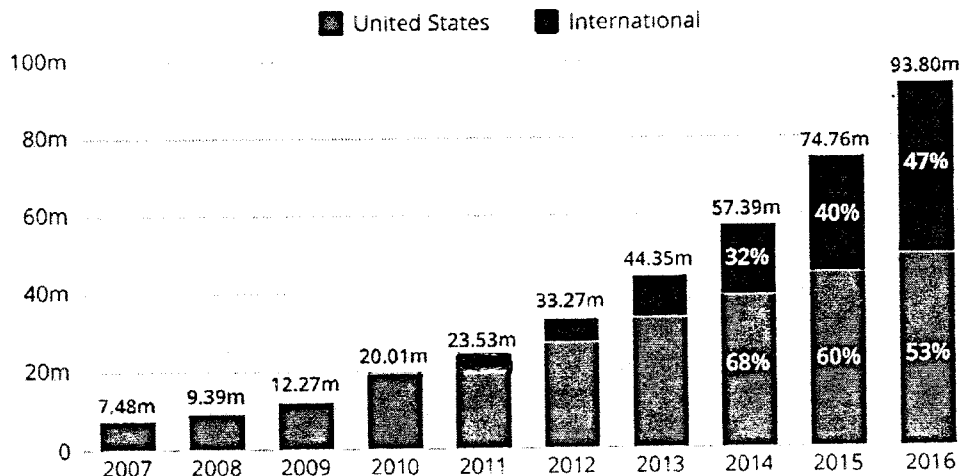
- a) providing an opportunity to express one's interest
- b) presenting an opportunity to meet with other likeminded individuals
- c) enjoying some downtime alone
- d) trying out different hobbies

4. According to the passage, people will begin to view the world in a new way when:
- a) they create something simple from seemingly nothing.
  - b) their daily environment changes.
  - c) they participate as a novice.
  - d) they are born with innate talent.
5. What is the one great thing about taking up hobbies?
- a) It needs specific ingredients.
  - b) We have to stick to it for a long time.
  - c) There are no set rules.
  - d) All of the above.
6. The central idea of the passage is:
- a) Non work-related activities strengthens teamwork.
  - b) Trying out hobbies for short periods of time is good.
  - c) Cultivating hobbies and being creative leads to significant positive changes.
  - d) Inherent talent helps in being more creative.
7. The synonym of the word 'stifled' in para 1 is
- a) free
  - b) support
  - c) suppress
  - d) hide
8. Find the word which means 'deep and intense' :
- a) blockage
  - b) profound
  - c) inherent
  - d) significant
9. Give an antonym for the word 'veterans' (para 5).
- a) novices
  - b) seeming
  - c) inherent
  - d) co-workers
10. Identify the word in para 4 which means 'the time when one is not working'.
- a) opportunity
  - b) downtime
  - c) vital
  - d) valuable

**II Read the following passage:**

1. Netflix grew its number of subscribers by around 10% a year and now has an estimate of more than 59 million subscribers in the US alone. Netflix's impact is felt in a number of industries. It is what experts call the Netflix effect. Earlier, consumers went to the movies and watched television. Netflix has changed it completely. They are no longer tied to the television and its commercials. Instead of paying for cable plans, a growing number of Americans are cutting the cord and only using streaming services. In 2018, the number of people who cut the cord increased by nearly 33%.

Number of Netflix subscribers at the end of the respective period\*



2. Netflix spent a staggering \$13 billion on content in 2018. Original content is what viewers need. Netflix's Artificial Intelligence powered algorithm creates personalised recommendations for each user. According to Netflix, 80% of watched content comes from recommendations. In the age where brands across all industries are trying to predict what customers want, Netflix is setting the bar. Looking for new technology and staying ahead of trends help it define and disrupt the industry.
3. Netflix's content is put right in front of customers for easy marketing. Netflix recently made a move into the independent film category, where traditional movies in theatres typically face an uphill battle being seen. Essentially, for every show Netflix creates, it is taking away viewers from a traditional show on network TV. Film and television companies have to adjust their processes and content to keep up with Netflix. Every company no matter the industry, can learn from Netflix and apply the principles of innovation, disruption and personalization. If they do not, they run the risk of being disrupted by the growing media giant that is Netflix.

Based on your understanding of the passage, answer any six out of the eight questions by choosing the correct option.

11. Why are large number of Americans no longer using the cable TV?

- a) It is not user friendly
- b) Poor connectivity is an issue
- c) Netflix provides more streaming options
- d) Both Netflix and cables cannot be accommodated in their budgets.

**12. Which of the following statement is TRUE?**

- a) Netflix is gaining reputation among its viewers because of its great content.
- b) Netflix is gaining acceptance among its viewers because of its brand name.
- c) Netflix is an extension of YouTube.
- d) Netflix is a surf engine meant for educational videos.

**13. The percentage of international subscribers of Netflix in 2016 may be seen as \_\_\_\_\_ American subscribers. (Refer bar chart)**

- a) same as that of
- b) superseding
- c) almost comparable to that of
- d) much less than

**14. The expansion of Netflix to include international subscribers can be seen in the year \_\_\_\_\_. (Refer bar chart).**

- a) 2005
- b) 2017
- c) 2011
- d) 2007

**15. Netflix effect means \_\_\_\_\_.**

- a) dominance of Netflix in the entertainment market
- b) effect of Netflix on the people
- c) effect of Netflix in a particular area
- d) failure of Netflix as a streaming service.

**16. A valuable lesson(s) that a company can learn through Netflix are \_\_\_\_\_.**

- A. innovation and disruption
- B. behaviour and service
- C. discovery and content trending
- D. personalisation

- a) C and D
- b) only B
- c) B, C and D
- d) A and D

**17. What does the phrase 'streaming services' mean?**

- a) a continuous entertainment services
- b) an online provider of entertainment through an internet connection
- c) service provided through cable
- d) a network connection service through a cord

**18. Find the word from the passage which means the same as 'a process or set of rules to be followed in calculations.'**

- a) subscribers
- b) commercials
- c) algorithm
- d) category

## GRAMMAR and WRITING

### GRAMMAR

III. Answer any four out of the five questions by selecting the most appropriate option for each. Do as directed in each question.

19. Complete the following by filling in the gap.

Writing (i) ..... always been the medium of expression for those (ii) ..... are shy and nervous.

- |                |         |          |             |
|----------------|---------|----------|-------------|
| (i) (a) had    | (b) is  | (c) has  | (d) have    |
| (ii) (a) which | (b) who | (c) that | (d) whoever |

20. Change from direct to indirect speech.

Joe said to me, "Go and meet the principal tomorrow."

- a) Joe said to go and meet the principal the next day.
- b) Joe told me to go and meet the principal the next day.
- c) Joe told me to meet the principal tomorrow.
- d) Joe said to me to go and meet the following day.

21. Fill in the blank with the correct word.

I didn't have \_\_\_\_\_ trouble getting the passports. I only had a problem with my photo because it was an old one.

- |         |        |       |            |
|---------|--------|-------|------------|
| a) much | b) any | c) no | d) several |
|---------|--------|-------|------------|

22. Complete the sentence by choosing the correct option.

The members of the committee \_\_\_\_\_ to the proposal.

- |                   |                       |
|-------------------|-----------------------|
| a) was consented  | b) had been consented |
| c) have consented | d) has consented      |

23. Use the appropriate word and fill in the blank.

The company \_\_\_\_\_ of its stakeholders.

- |          |               |           |             |
|----------|---------------|-----------|-------------|
| a) think | b) thoughtful | c) thinks | d) thinking |
|----------|---------------|-----------|-------------|

## WRITING

### IV. Answer the following with reference to the context below.

You have to write a descriptive paragraph on Mark Zuckerberg. Complete the same by selecting the appropriate option from the following questions.

24. Select the option that would be an appropriate way to begin the paragraph.

- a) Mark Zukerberg had a bunch of friends who were artists.
- b) Mark Elliot Zuckerberg is an American computer programmer born on 14<sup>th</sup> May 1984 in New York.
- c) Mark Zuckerberg began writing code for a new website <sup>in</sup> 2004.
- d) Mark Zuckerberg visited Russian Prime Minister Dmitry Medvedev in Moscow on October 1, 2012,


25. Select the appropriate lines you would use to describe his physical appearance.

- A) He is tall with red hair and blue eyes
  - B) He weighs 76 kgs
  - C) He is 37 years old as of 2021
  - D) He has reputation as a programming prodigy
  - E) *He has* one daughter named Maxima Chan Zuckerberg.
- a) BE                      b) CD                      c) AB                      d) AC

26. Which statement indicates Zuckerberg's unusual trait?

- a) Zuckerberg's main concern was whether or not Internet users would latch onto Facebook
- b) A key attribute that Zuckerberg has is his creativity.
- c) After attending Phillips Exeter Academy, Zuckerberg enrolled at Harvard University in 2002.
- d) Mark Zuckerberg's rise to stardom emerged with the development of Facebook.

V. Knowledge is power. Based on the following visual along with your ideas, select the most appropriate option that you would include while writing a story. (Answer any three out of the four questions)



**27. The most appropriate title for this story would be :**

- a) Knowledge is not free.
- b) Education is not the most powerful weapon.
- c) Literacy is a bridge from misery to hope.
- d) Illiteracy is the root cause of poverty.

**28. The first paragraph of the story should include:**

- a) The message that the story conveys.
- b) Introduction of the main character of the story.
- c) The climax of the story.
- d) All of the above.

**29. Which option should you select, to elaborate on the story line.**

a)	<ul style="list-style-type: none"> <li>• Lying through your teeth is often the best policy.</li> <li>• Ignorance is bliss.</li> </ul>
b)	<ul style="list-style-type: none"> <li>• Learning at every stage of life is an essential prerequisite for success.</li> <li>• Self-belief and hard work always reaps benefits.</li> </ul>
c)	<ul style="list-style-type: none"> <li>• Education will limit your avenues.</li> <li>• People have been successful even without acquiring knowledge.</li> </ul>
d)	<ul style="list-style-type: none"> <li>• You can buy education, but wisdom is a gift of god.</li> <li>• Only hard work won't bring you success.</li> </ul>



**30. Select the option that would be an appropriate ending to the story.**

- a) If you are willing to learn, no one can help you. But if you are not determined to learn, no one can stop you.
- b) Every addition to true knowledge is an addition to human downfall.
- c) Education is the premise of progress in every society and every family.
- d) It's all about what you do than about what you know.

### **LITERATURE**

**This section has sub-sections – VI, VII, VIII, IX & X. There are a total of 30 questions in this section. Attempt any 26 questions from the sub-sections VI to X.**

**Read the given extract to attempt the questions that follow: Answer two questions from each extract.**

**VI.** "Your children are not your children. They are the sons and daughters of Life's longing for itself. They come through you but not from you. You may give them your love but not your thoughts. For they have their own thoughts."

**31. To whom do these words originally belong?**

- a) Abdul Kalam      b) Khalil Gibran      c) Jainulabdeen      d) Jallaluddin

**32. What does the above statement mean? Select the correct options.**

- A. That we don't own our children and we don't have control over their lives.
- B. We provide nurturing, safety and love, and after all is said and done we must stand out of the way and let them go.
- C. Children belong to parents as they are a result of life's desire for itself.
- D. Children should be given freedom to fulfil their thoughts.

- a) ACD      b) CBD      c) ABC      d) ABD

**33. To whom did Kalam's father say these words?**

- a) To Kalam      b) To Samsuddin      c) To Ashiamma      d) To Jalaluddin

**34. Why did the speaker make the above statement?**

- a) To convince his hesitant wife      b) To convince his family
- c) To convince Kalam to stay      d) To convince himself

**VII. Where they harness the swift reindeer**

- To the sledges, when it snows;  
And the children look like bear's cubs  
In their funny, furry clothes

**35. Why are the children described as 'bear's cubs'?**

- a) Because they <sup>are</sup> in a bear forest
- b) They play with bear cubs
- c) They wear clothes made of fur
- d) They hunt bear for their food

**36. What is 'swift reindeer' an example of ?**

- a) Assonance
- b) Repetition
- c) Imagery
- d) Simile

**37. Which of these words is a synonym for harness?**

- a) Strap
- b) Gear
- c) Track
- d) Rod

**38. Which poetic device is repeated in the third and fourth line of the stanza?**

- a) metaphor
- b) alliteration
- c) anaphora
- d) personification

VIII. The poor little swallow grew colder and colder, but he would not leave the Prince, he loved him too well. He picked up crumbs outside the baker's door when the baker was not looking, and tried to keep himself warm by flapping his wings.

**39. What does the swallow's life say about him?**

- a) his selfishness
- b) his selflessness
- c) his indifference
- d) his fickleness

**40. What ultimately happened to the swallow?**

- a) He was turned into a statue like the Prince.
- b) An angel brought him to heaven.
- c) He was rescued by the kind baker.
- d) His friend came to join him in the city.

**41. What made the swallow stay with the Prince?**

- a) He was weak and grew colder and colder.
- b) He was hungry and could not fly.
- c) He loved the Prince for his kind heart.
- d) None of the above.

**42. Which of these words is a synonym for 'crumbs'?**

- a) scraps                      b) drops                      c) seeds                      d) shreds

IX. "One bright day, a thief broke into a rich merchant's house. He had made a hole in the wall and sneaked in, and as he was carrying out his loot, the wall of the old house collapsed on his head and killed him on the spot. His brother ran to the king and complained, "Your Highness, when my brother was pursuing his ancient trade, a wall fell on him and killed him. This merchant is to blame. He should have built a good, strong wall. You must punish the wrongdoer and compensate the family for this injustice."

**43. What was the reason for the king's final judgement?**

- a) There was evidence suggesting the merchant's guilt.  
b) The sons should inherit the father's sins.  
c) He accepted the statement of the thief's brother unquestioningly.  
d) He decided to punish the merchant and seize his assets.

**44. Who was ultimately responsible for the thief's death?**

- a) The Merchant's father                      b) The Merchant  
c) The dancer                      d) The thief's brother

**45. What is the meaning of the word 'compensate'?**

- a) To make someone feel better  
b) To pay money for work done  
c) To gift something useful  
d) To be given money to make up for a loss

**46. What does the phrase 'carrying out his loot' mean in the above extract?**

- a) to carry a heavy bag                      b) to carry the burgled items  
c) to carry out the activity                      d) to carry on with robbing

**X. Answer the following:**

**47. How were the schools of the past different from the one Margie attended?**

- a) They were not real.  
b) They were in a special building.  
c) They had special lessons for each student.  
d) They did not give homework.

48. What does the road represent in the poem 'The Road Not Taken'?
- a) Tasks to be completed.
  - b) Choices made in life.
  - c) Various options available.
  - d) The poet's loneliness.
49. Where did Evelyn go after touring the United Kingdom?
- a) The Royal Academy of Music
  - b) The Royal Society of Music
  - c) The Royal Philharmonic Society
  - d) The Royal Academic of Art
50. Tahar Mosiquee Ustaad Bismillah Khan auditorium is situated in :
- a) Montreal
  - b) Osaka
  - c) Teheran
  - d) Bahrain
51. Where did Einstein wish to continue his study?
- a) Germany
  - b) Munich
  - c) German-speaking Switzerland
  - d) Milan
52. In 'The Kingdom of Fools' the merchant said that his wall fell because.....
- a) the thief had tried to break in.
  - b) the wall was old and weak.
  - c) the bricklayer had not built it right.
  - d) the hole made in it was too big.
53. In 'The Little Girl' what gave a sense of relief to Kezia ?
- a) Her father leaving the house and the voice of the carriage growing fainter.
  - b) Hearing the footsteps of her father coming in.
  - c) Her grandmother giving her the yellow silk cloth for the cushion.
  - d) Knowing that there were different kinds of fathers.
54. "He makes strong fires roar and flourish." What does the poet imply by strong and weak fires?
- a) The difficulties faced by individuals.
  - b) The inner strength of the individuals.
  - c) The actions of individuals.
  - d) The decisions made by individuals.

55. "When the humid shadows hover  
Over all the starry spheres"

What does the poet refer to using the phrase 'humid shadows'?

- a) Rain                      b) Clouds                      c) Sky                      d) Earth

56. What did the child in the story 'The Lost Child' do, when he realised he had lost his parents?

- a) He called for help.  
b) He told the stranger to find them.  
c) He ran here and there crying and tried to find them.  
d) He sat near the temple and waited for them.

57. Grandfather sold Toto back to the tonga driver for three rupees. How much did Grandfather spend on Toto in the first place?

- a) Ten rupees                      b) Three rupees  
c) Six rupees                      d) Five rupees

58. What did the young playwright think when he found a beautiful sapphire on his withered violets?

- a) He thought it was from a great admirer of his plays.  
b) He thought it was a gift from the Happy Prince.  
c) He thought someone had put it there by mistake.  
d) He thought the sapphire was a reward from his Director.

59. What nightmare did Kezia have when she slept alone?

- a) A giant with a knife  
b) A butcher with a knife and rope  
c) An accident across the countryside  
d) A dreadful smile of the Macdonalds

60. How did Einstein react to the bombing of Hiroshima and Nagasaki?

- a) He was shocked.  
b) He wrote a letter to the United Nations suggesting a world government.  
c) He started campaigning for peace and democracy.  
d) All of the above

\*\*\*\*\*



**SINDHI HIGH SCHOOL, BENGALURU**  
**HALF-YEARLY EXAMINATION [2021-22]**  
**SUBJECT: L2 HINDI**

**Class: IX**  
**Date: 08.10.2021**

**Max Marks: 40**  
**Time: 90 mins.**  
**No. of sides: 13**

**सामान्य निर्देश -**

- \*निम्नलिखित निर्देशों को बहुत सावधानी से पढ़िए और उनका पालन कीजिए।
- \*इस प्रश्न-पत्र में तीन खंड हैं- खंड "क" "ख" और "ग"
- \*खंड क में कुल 2 प्रश्न पूछे गए हैं। दोनों प्रश्नों के कुल 20 उप प्रश्न दिए गए हैं। दिए गए निर्देशों का पालन करते हुए प्रश्नों के ही उत्तर दीजिए।
- \*खंड ख में कुल 4 प्रश्न पूछे गए हैं तथा इन सभी के 21 उप प्रश्न हैं। प्रश्नों में आंतरिक विकल्प दिए गए हैं। दिए गए निर्देशों का पालन करते हुए 16 उपप्रश्नों के ही उत्तर दीजिए।
- \* खंड ग में कुल 3 प्रश्न हैं तथा 14 उपप्रश्न सम्मिलित है। सभी उपप्रश्नों के ही उत्तर दीजिए।

**खंड-क**

- 1) नीचे दो 2 गद्यांश दिए गए हैं। किसी 1 गद्यांश को ध्यानपूर्वक पढ़िए और उस पर आधारित प्रश्नों के उत्तर दीजिए।

**5X1=5**

**गद्यांश- 1**

यदि आप इस गद्यांश का चयन करते हैं तो कृपया उत्तर-पुस्तिका में लिखें कि आप प्रश्न संख्या 1 में दिए गए गद्यांश -1 पर आधारित प्रश्नों के उत्तर लिख रहे हैं।

- 1) संसार में शांति, व्यवस्था और सद्भावना के प्रसार के लिए बुद्ध, ईसा मसीह, मुहम्मद चैतन्य, नानक आदि महापुरुषों ने धर्म के माध्यम से मनुष्य को परम कल्याण के पथ का निर्देश किया, किंतु बाद में यही धर्म मनुष्य के हाथ में एक अस्त्र बन गया। धर्म के नाम पर पृथ्वी पर जितना रक्तपात हुआ उतना और किसी कारण से नहीं। पर धीरे-धीरे मनुष्य अपनी शुभ बुद्धि से धर्म के कारण होने वाले अनर्थ को समझने लग गया है। भौगोलिक सीमा और धार्मिक विश्वासजनित भेदभाव अब धरती से मिटते जा रहे हैं। विज्ञान की प्रगति तथा संचार के साधनों में वृद्धि के कारण देशों की दूरियाँ कम हो गई हैं। इसके कारण मानव-मानव में घृणा, ईर्ष्या, वैमनस्य, कटुता में कमी नहीं आई। मानवीय मूल्यों के महत्त्व के प्रति जागरूकता उत्पन्न करने का एकमात्र साधन है शिक्षा का व्यापक प्रसार।

**निम्नलिखित में से निर्देशानुसार सर्वाधिक उपयुक्त विकल्पों का चयन कीजिए।**

- (क) मनुष्य अधर्म के कारण होने वाले अनर्थ को कैसे समझने लगा है?

- (i) संतों के अनुभव से
- (ii) वर्ण भेद से
- (iii) घृणा, ईर्ष्या, वैमनस्य, कटुता से
- (iv) अपनी शुभ बुद्धि से

(ख) विज्ञान की प्रगति और संचार के साधनों की वृद्धि का परिणाम क्या हुआ है?

- (i) देशों में भिन्नता बढ़ी है।
- (ii) देशों में वैमनस्यता बढ़ी है।
- (iii) देशों की दूरियाँ कम हुई हैं।
- (iv) देशों में विदेशी व्यापार बढ़ा है।

(ग) देश में आज भी कौन-सी समस्या है?

- (i) नफ़रत की
- (ii) वर्ण-भेद की
- (iii) सांप्रदायिकता की
- (iv) अमीरी-गरीबी की

(घ) किस कारण से देश में मानव के बीच, घृणा, ईर्ष्या, वैमनस्यता एवं कटुता में कमी नहीं आई है?

- (i) नफ़रत से
- (ii) सांप्रदायिकता से
- (iii) अमीरी गरीबी के कारण
- (iv) वर्ण-भेद के कारण

(ङ) मानवीय मूल्यों के महत्त्व के प्रति जागरूकता उत्पन्न करने का एकमात्र साधन

- (i) शिक्षा का व्यापक प्रसार
- (ii) धर्म का व्यापक प्रसार
- (iii) प्रेम और सद्भावना का व्यापक प्रसार
- (iv) उपर्युक्त सभी

निम्नलिखित में से निर्देशानुसार सर्वाधिक उपयुक्त विकल्पों का चयन कीजिए ।

अथवा गद्यांश- II

यदि आप इस गद्यांश का चयन करते हैं तो कृपया उत्तर-पुस्तिका में लिखें कि आप प्रश्न संख्या I में दिए गए गद्यांश II पर आधारित प्रश्नों के उत्तर लिख रहे हैं । 5X1=5

मनुष्य को चाहिए कि संतुलित रहकर अति के मार्गों का त्यागकर मध्यम मार्ग को अपनाए। अपने सामर्थ्य की पहचान कर उसकी सीमाओं के अंदर जीवन बिताना एक कठिन कला है। सामान्य पुरुष अपने अहं के वशीभूत होकर अपना मूल्यांकन अधिक कर बैठता है और इसी के फलस्वरूप वह उन कार्यों में हाथ लगा देता है जो उसकी शक्ति में नहीं हैं। इसलिए सामर्थ्य से अधिक व्यय करने वालों के लिए कहा जाता है कि 'तेते पाँव पसारिए, जेती लांबी सौर'। उन्हीं के लिए कहा गया है कि अपने सामर्थ्य, को विचार कर उसके अनुरूप कार्य करना और व्यर्थ के

दिखावे में स्वयं को न भुला देना एक कठिन साधना तो अवश्य है, पर सबके लिए यही मार्ग अनुकरणीय है।

निम्नलिखित में से निर्देशानुसार सर्वाधिक उपयुक्त विकल्पों का चयन कीजिए।

(क) अति का मार्ग क्या होता है?

- (i) असंतुलित मार्ग
- (ii) संतुलित मार्ग
- (iii) अमर्यादित मार्ग
- (iv) मध्यम मार्ग

(ख) कठिन कला क्या है?

- (i) सामर्थ्य के बिना सीमारहित जीवन बिताना
- (ii) सामर्थ्य को बिना पहचाने जीवन बिताना
- (iii) सामर्थ्य की सीमा में जीवन बिताना
- (iv) सामर्थ्य न होने पर भी जीवन बिताना

(ग) मनुष्य अहं के वशीभूत होकर

- (i) अपने को महत्त्वहीन समझ लेता है।
- (ii) किसी को महत्त्व देना छोड़ देता है।
- (iii) अपना सर्वस्व खो बैठता है।
- (iv) अपना अधिक मूल्यांकन कर बैठता है।

(घ) "तेते पाँव पसारिए, जेती लांबी सौर" का आशय है

- (i) सामर्थ्य के अनुसार कार्य न करना
- (ii) सामर्थ्य के अनुसार कार्य करना
- (iii) व्यर्थ का दिखावा करना
- (iv) आय से अधिक व्यय करना

(ङ) प्रस्तुत गद्यांश का शीर्षक हो सकता है

- (i) आय के अनुसार व्यय
- (ii) दिखावे में जीवन बिताना
- (iii) सामर्थ्य से अधिक व्यय करना
- (iv) सामर्थ्य के अनुसार कार्य करना



- II) नीचे 2 गद्यांश दिए गए हैं। किसी 1 गद्यांश को ध्यानपूर्वक पढ़िए और उस पर आधारित प्रश्नों के उत्तर दीजिए।

5X1=5

गद्यांश - I

यदि आप इस गद्यांश का चयन करते हैं तो कृपया उत्तर-पुस्तिका में लिखें कि आप प्रश्न संख्या II में दिए गए गद्यांश पर आधारित प्रश्नों के उत्तर लिख रहे हैं।

वीरता की अभिव्यक्ति अनेक प्रकार से होती है। लड़ना-मरना, खून बहाना, तोप-तलवार के सामने न झुकना ही नहीं कर्ण की भाँति याचक को खाली हाथ न लौटाना या बुद्ध की भाँति गूढ़ तत्वों की खोज में सांसारिक सुख त्याग देना भी वीरता ही है। वीरता तो एक अंतःप्रेरणा है।

वीरता देश-काल के अनुसार संसार में जब भी प्रकट हुई, तभी अपना एक नया रूप लेकर आई और लोगों को चकित कर गई। वीर कारखानों में नहीं ढलते, न खेतों में उगाए जाते हैं, वे तो देवदार के वृक्ष के समान जीवनरूपी वन में स्वयं उगते हैं, बिना किसी के पानी दिए, बिना किसी के दूध पिलाए बढ़ते हैं। वीर का दिल सबका दिल और उसके विचार सबके विचार हो जाते हैं। उसके संकल्प सबके संकल्प हो जाते हैं। औरतों और समाज का हृदय वीर के हृदय में धड़कता है।

निम्नलिखित में से निर्देशानुसार सर्वाधिक उपयुक्त विकल्पों का चयन कीजिए।

(क) वीरता के प्रकार हैं

- (i) लड़ाई
- (ii) याचक को खाली हाथ न जाने देना
- (iii) ज्ञान की खोज में संसार-त्याग
- (iv) उपर्युक्त सभी

(ख) उपयुक्त शीर्षक दीजिए

- (i) वीरता
- (ii) वीरों का उद्भव
- (iii) वीरता का महल
- (iv) कोई नहीं

(ग) वीर कहाँ उत्पन्न होते हैं?

- (i) वे देवदार के वृक्ष के समान स्वयं उगते हैं तथा बड़े होते हैं।
- (ii) कारखानों में
- (iii) खेतों में
- (iv) कोई नहीं

(घ) वीर पुरुष की क्या पहचान है?

- (i) वह सबका चहेता होता है।
- (ii) उसके संकल्प समाज के संकल्प होते हैं।
- (iii) (i) और (ii)
- (iv) कोई नहीं।

### (ड) 'सुख' का विलोम है

- (i) दुख
- (ii) सुखी
- (iii) कमज़ोर
- (iv) कोई नहीं

### गद्यांश -II

यदि आप इस गद्यांश का चयन करते हैं तो कृपया उत्तर-पुस्तिका में लिखें कि आप प्रश्न संख्या II में दिए गए गद्यांश -II पर आधारित प्रश्नों के उत्तर लिख रहे हैं। 5X1=5

संसार के सभी धर्मों में एक बात समान है, वह है प्रार्थना, ईश्वर भक्ति। प्रार्थना द्वारा हम अपने हृदय के भाव प्रभु के सम्मुख रखते हैं और कुछ ना कुछ उस शक्तिमान से माँगते हैं। जब हमें मार्ग नहीं सूझता तो हम प्रार्थना करते हैं। प्रार्थना का फल उत्तम हो, इसके लिए हमें अपने अंदर उत्तम विचार और एकाग्र मन उत्पन्न करने होते हैं, क्योंकि विचार ही मनुष्य को पीड़ा पहुँचाते हैं और उससे मुक्त करते हैं। हमारे विचार ही हमें ऊँचाई तक ले जाते हैं या फिर खाई में फेंक देते हैं। यह मन ही हमारे लिए दुख लाता है और यही आनंद की ओर ले जाता है। यजुर्वेद के 1 मंत्र के अनुसार यह मन सदा ही प्रबल और चंचल है। (iv) मन में उत्पन्न विचार। यह जड़ होते हुए भी सोते-जागते कभी भी चैन नहीं लेता। जितनी देर हम जागते रहते हैं, उतनी देर यह कुछ ना कुछ सोचता हुआ भटकता रहता है। अब प्रश्न यह उठता है कि मन जो अत्यंत गतिशील है, उसको स्थिर और वश में कैसे किया जाए। मन को वश में करने का यह तात्पर्य नहीं कि यह गतिहीन हो जाए और यह गति हीन हो ही नहीं सकता। जिस प्रकार अग्नि का धर्म उष्णता है उसी प्रकार चंचलता मन का धर्म है।

निम्नलिखित में से निर्देशानुसार सर्वाधिक उपयुक्त विकल्पों का चयन कीजिए।

क) संसार के सभी धर्मों में समान है-

- i) प्रवचन व ईश्वर भक्ति
- ii) प्रार्थना व प्रवचन
- iii) प्रार्थना व ईश्वर भक्ति
- iv) ईश्वर भक्ति व भजन

ख) मनुष्य प्रार्थना कब करता है?

- i) संध्या काल में
- ii) कोई मार्ग ना सूझने पर
- iii) प्रातः काल होने पर
- iv) कष्ट आने पर

ग) मनुष्य की पीड़ा का कारण है-

- i) मनुष्य के कर्म
- ii) मन की निर्बलता

- iii) मनुष्य की बुद्धि
- iv) मन में उत्पन्न विचार

घ) प्रार्थना का फल उत्तम हो, इसके लिए हमें क्या करना चाहिए ।

- i) हमें अपने अंदर उत्तम विचार और एकाग्र मन उत्पन्न करने होते हैं
- ii) हमें अपने अंदर कुविचार और अशांत मन उत्पन्न करने होते हैं
- iii) हमें अपने अंदर घृणा और नफरत उत्पन्न करने होते हैं
- iv) हमें अपने अंदर दुश्मनी और हिंसा उत्पन्न करने होते हैं

ड.) यजुर्वेद में मन की कौन सी विशेषता बताई गई है?

- i) प्रबल और स्थिर
- ii) प्रबल और एकाग्र
- iii) प्रबल और चंचल
- iv) प्रबल और गतिहीन

### व्यावहारिक व्याकरण

16X1=16

III.) निम्नलिखित पाँच भागों में से किन्हीं चार भागों के सही उत्तर वाले विकल्प चुनिए ।

(4X1=4)

क) अनुस्वार का उदाहरण नहीं है –

- i) आँख
- ii) मंथन
- iii) गणतंत्र
- iv) कंपनी

ख) निम्नलिखित शब्दों में से अनुस्वार का उचित प्रयोग वाला शब्द छाँट कर लिखिए –

- i) गाँव
- ii) जंगल
- iii) धुंधले
- iv) संबंध

ग) अनुनासिक व अनुस्वार का सही उदाहरण छाँट कर लिखिए ।

- i) सुँदर, मंदिर
- ii) हँसमुख, गंगा
- iii) ऊँट, जग
- iv) साँप, सभंव

घ) उचित स्थान पर लगे अनुनासिक वाला शब्द छाँटिए ।

- i) सयोगँ
- ii) मुँह
- iii) सँगम
- iv) सँसार

ड.) उचित स्थान पर लगे अनुनासिक वाला शब्द छाँटिए ।

- i) दाँत
- ii) गँभीर
- iii) सायँ
- iv) जँजीर

iv) निम्नलिखित पाँच भागों में से किन्हीं चार भागों के सही उत्तर वाले विकल्प चुनिए ।

(4X1=4)

क) "अनुरोध" शब्द में कौन-सा उपसर्ग प्रयुक्त हुआ है ?

- i) अनु
- ii) अनू
- iii) अनउ
- iv) अनऊ

ख) "घबराहट" शब्द में प्रयुक्त प्रत्यय छाँटिए-

- i) आहट
- ii) हट
- iii) राहट
- iv) बराहट

ग) निम्न में से उपसर्ग रहित शब्द है-

- i) अवगुण
- ii) अभिमुख
- iii) अपमान
- iv) गिरावट

घ) "पत्ता" शब्द का पर्यायवाची है-

- i) पय
- ii) खल
- iii) पल्लव
- iv) भीर

ड. "अभिनेता" शब्द का पर्यायवाची नहीं है -

- i) कलाकार
- ii) लिबास
- iii) नायक
- iv) रंगकर्मी

V) निम्नलिखित छह भागों में से किन्हीं चार भागों के सही उत्तर वाले विकल्प चुनिए।

(4X1=4)

क) शब्द पुर-पूर का भिन्नार्थक होगा -

- i) नगर, बाढ़
- ii) पेट, बूढ़ा
- iii) गहरा, काफी
- iv) जड़, कीमत

ख) संसार, सुंदर का सही अर्थ देने वाला भिन्नार्थक है

- i) शुक्ल, शुकल
- ii) भाग, भाग्य
- iii) भव, भव्य
- iv) वरण, वर्ण

ग) गहरा शब्द का विलोम होगा-

- i) उथला
- ii) सरल
- iii) विस्तार
- iv) मंद

घ) वरदान शब्द का विलोम है-

- i) अभिशाप
- ii) अभिमान
- iii) अधिकार
- iv) अधिरथ

ड.) सर्वदा शब्द के लिए सही विलोम का चयन कीजिए

- i) नर्मदा
- ii) यदा-कदा
- iii) अर्वधा
- iv) सर्वगता

च) लाभ, सौभाग्य, वृद्धि किस शब्द के पर्यायवाची है-

- i) घर
- ii) बरकत
- iii) बाल
- iv) शोभा

VI) निम्नलिखित पौंच भागों में से किन्ही चार भागों के सही विकल्प चुनिए । (4X1=4)

क) बच्चा सो नहीं रहा है । अर्थ के आधार पर वाक्य भेद होगा-

- i) विधान वाचक
- ii) निषेधवाचक
- iii) प्रश्नवाचक
- iv) आज्ञा वाचक

ख) आज्ञा वाचक वाक्य का सही उदाहरण होगा-

- i) गृह कार्य करके लाना ।
- ii) शायद आज मामा जी आएँ ।
- iii) यदि तुम मेला देखने चलो तो मैं भी चल सकता हूँ ।
- iv) अरे! गाड़ी चली गई ।

ग) बहुत सुंदर दृश्य है इस वाक्य का विस्मय वाचक वाक्य होगा-

- i) शायद बहुत सुंदर दृश्य है ।
- ii) क्या सुंदर दृश्य है ।
- iii) वाह ! कितना सुंदर दृश्य है ।
- iv) बहुत सुंदर दृश्य है

घ) वर्णों के स्वतंत्र एवं अर्थपूर्ण समूह को \_\_\_\_\_ कहते हैं-

- i) पद
- ii) वाक्य
- iii) वर्ण
- iv) शब्द

ड.) जब शब्द वाक्य में प्रयोग किए जाते हैं तो वे \_\_\_\_\_ बन जाते हैं ।

- i) उपवाक्य
- ii) विलोम
- iii) सर्वनाम
- iv) पद

खंड-ग ( पाठ्यपुस्तक )

VII) निम्नलिखित पद्यांश को पढ़कर प्रश्नों के सर्वाधिक उपयुक्त विकल्पों का चयन कीजिए ।

4X1=4

रहिमन निज मन की बिथा, मन ही राखो गोय।  
सुनि अठिलैहैं लोग सब, बाँटि न लैहै कोय॥  
एकै साथे सब सधै, सब साथे सब जाय।  
रहिमन मूलहिं सींचिबो, फूलै फलै अघाय॥

क) हमें अपने मन की पीड़ा को मन में ही छिपाकर क्यों रखना चाहिए ?

- i) हमारी पीड़ा को कोई कम नहीं कर सकता
- ii) लोग सुनकर हँसी उड़ाते हैं
- iii) क और ख दोनों ठीक हैं
- iv) लोग सहायता करना चाहते हैं

ख) व्यक्ति क्या सोच कर अपनी व्यथा दूसरों को सुनाता है ?

- i) कि उसका दुख कम हो जाएगा
- ii) कि उसका दुख बढ़ जाएगा
- iii) कि लोग उसकी सहायता करेंगे
- iv) कि लोग उस पर दया दिखाएंगे

ग) एक साथ कई कार्य करने से क्या होता है ?

- i) सभी कार्य सिद्ध हो जाते हैं ।
- ii) कार्य करने की क्षमता बढ़ती है
- iii) कार्य करने वाले को यश मिलता है
- iv) कोई भी कार्य पूरा नहीं होता

घ) एक साथ एक कार्य करना चाहिए अपनी इस बात को सिद्ध करने के लिए रहीम ने किस का उदाहरण दिया है -

- i) पेड़ का
- ii) धरती का
- iii) बादल का
- iv) कमल का

**VIII) निम्नलिखित गद्यांश को पढ़कर प्रश्नों के सर्वाधिक उपयुक्त विकल्पों का चयन कीजिए ।**

**5X1=5**

जवान बेटे के मरने पर तेरह दिन का छूत होता है और वह यहाँ सड़क पर बाजार में आकर खरबूजे बेचने बैठ गई है। हजार आदमी आते-जाते हैं। किसी को क्या पता कि इसके घर में किसी की मौत हुई है और अभी सूतक है। कोई इसके खरबूजे खा ले तो उसका ईमान-धर्म कैसे रहेगा? सब नष्ट हो जाएगा।

पास-पड़ोस की दुकानों से पूछने पर पता लगा-उसका तेईस बरस का जवान लड़का था। घर में उसकी बहू और पोता-पोती हैं। लड़का शहर के पास डेढ़ बीघा भर ज़मीन में कछियारी करके परिवार का निर्वाह करता था। खरबूजों की डलिया बाजार में पहुँचाकर कभी लड़का स्वयं सौदे के पास बैठ जाता, कभी माँ बैठ जाती।

क) कहानी में किसके मरने पर तेरह दिन का सूतक कहा गया है ?

- (i) जवान बेटे के
- (ii) स्त्री के
- (iii) वृद्ध के
- (iv) पड़ोसी के

ख) बुढ़िया बाजार में क्या बेचने गई थी ?

- (i) तरबूज
- (ii) खरबूजे
- (iii) सब्जी
- (iv) खिलौने

ग) खरबूजे बेचने वाली स्त्री से कोई खरबूजे क्यों नहीं ले रहा था

- i) उसके खरबूजे अच्छे नहीं थे
- ii) उसके रेट बहुत अधिक है
- iii) उसके पुत्र की मृत्यु हो गई थी जिसके कारण उसके घर में अभी सूतक था
- iv) इसमें से कोई नहीं

घ) भगवाना अपने परिवार का निर्वाह कैसे करता था

- i) सब्जी -फल बेचकर
- ii) परचून की दुकान से
- iii) फेरी लगाकर
- iv) कपड़ा बेचने से



ड.) बुढ़िया के बेटे की उम्र क्या थी-

- i) २१ बरस
- ii) २२ बरस
- iii) २३ बरस
- iv) २४ बरस

X) निम्नलिखित गद्यांश को पढ़कर प्रश्नों के सर्वाधिक उपयुक्त विकल्पों का चयन कीजिए।

5X1=5

जब अप्रैल में मैं बेस कैम्प में थी, तेनजिंग अपनी सबसे छोटी सुपुत्री डेकी के साथ हमारे पास आए थे। उन्होंने इस बात पर विशेष महत्व दिया कि दल के प्रत्येक सदस्य और प्रत्येक शेरपा कुली से बातचीत की जाए। जब मेरी बारी आई, मैंने अपना परिचय यह कहकर दिया कि मैं बिल्कुल ही नौसिखिया हूँ और एवरेस्ट मेरा पहला अभियान है। तेनजिंग हँसे और मुझसे कहा कि एवरेस्ट उनके लिए भी पहला अभियान है, लेकिन यह भी स्पष्ट किया कि शिखर पर पहुँचने से पहले उन्हें सात बार एवरेस्ट पर जाना पड़ा था। फिर अपना हाथ मेरे कंधे पर रखते हुए उन्होंने कहा, 'तुम एक पक्की पर्वतीय लड़की लगती हो। तुम्हें तो शिखर पर पहले ही प्रयास में पहुँच जाना चाहिए।'

क) तेनजिंग कौन थे ?

- i) एक बहुत बड़े राजनेता थे
- ii) स्वतंत्रता सेनानी थे
- iii) एवरेस्ट पर चढ़ने वाले पहले व्यक्ति
- iv) भारतीय सेना के बहादुर सिपाही

ख) तेनजिंग ने किस बात को महत्व दिया ?

- i) प्रत्येक सदस्य को शेरपा कुली से बात करनी चाहिए।
- ii) प्रत्येक सदस्य को एवरेस्ट पर चढ़ना चाहिए
- iii) प्रत्येक सदस्य को अपना सामान स्वयं उठाना चाहिए
- iv) कुछ दिन कैम्प में रुकना चाहिए

ग) बर्चेद्री पाल का यह कौन सा अभियान है ?

- i) पहला
- ii) दूसरा
- iii) तीसरा
- iv) चौथा

घ) बर्चेद्री पाल के लिए तेनजिंग ने क्या शब्द कहे -

- i) तुम एक पक्की पर्वतीय लड़की लगती हो
- ii) तुम्हें तो पहले प्रयास में ही शिखर पर पहुंच जाना चाहिए
- iii) क और ख दोनों कथन सत्य है
- iv) कोई भी कथन सत्य नहीं है

ड.) तेनजिंग को एवरेस्ट शिखर पर पहुंचने से पहले कितनी बार एवरेस्ट पर जाना पड़ा ।

- i) दो बार
- ii) चार बार
- iii) पाँच बार
- iv) सात बार

\*\*\*\*\*



**SINDHI HIGH SCHOOL, BENGALURU**  
**HALF-YEARLY EXAMINATION [2021-22]**  
**SUBJECT: L2 संस्कृतम् (122)**

Class: IX

Date: 8.10.2021

Max Marks: 40

Time: 90 min.

No. of sides: 6

सामान्यनिर्देश:-

1. कृपया सम्यक्तया प्रश्नपत्रं पठन्तु, पठनार्थं 15- पञ्चदश.निमेषाः दत्ताः ।
2. प्रश्नपत्रे विभागः एकः वर्तते – ( बहुविकल्पात्मकः ) – 40 अङ्काः
3. प्रश्नपत्रानुगुणं प्रश्नसंख्या- अवश्यं लेखनीया ।
4. उत्तरपत्रिकायाम् उत्तराणि संस्कृतेन लेखनीयानि ।
5. उत्तरलेखनात्पूर्वं निर्देशः अवश्यं पठनीयः ।

1. अधोलिखितवाक्येषु रेखाङ्कितपदस्य सन्धिपदं सन्धिविच्छेदपदं वा चिनुत (केवलं प्रश्नचतुष्टयम्) 1x4=4

(i) वसन्ते लसन्तीह सरसा रसालाः ।

क. लसन्ती+इह

ख. लसन्ति+इह

ग. लसन्ती+ह

घ. लसन्ति+ईह

(ii) तदा सा कन्या च+आश्चर्यचकिता सञ्जाता ।

क. चाचर्यचकिता

ख. चार्यचकिता

ग. चाश्चर्यचकिता

घ. चाश्च चकिता

(iii) तस्यां भीषणः कृष्णसर्पो विलोकितः ।

क. कृष्णसर्पः विलोकितः

ख. कृष्णः + सर्पो विलोकितः

ग. कृष्णः सर्पः

घ. कृष्णसर्पः+अवलोकितः

(iv) मल्लिका – सम्यक् + जानामि नाथ!

क. सम्यक्जानामि

ख. सम्यङ्जानामि

ग. सम्यघ्जानामि

घ. सम्यग् जानामि

(v) छायेव मैत्री खलसज्जनानाम् ।

क. छाया + इव

ख. छाया+एव

ग. छाया+इव

घ. छाया+तव

2. अधोलिखितवाक्यानि उचितशब्दरूपैः पूरयत (केवलं प्रश्नचतुष्टयम्)

1x4=4

(i) भारति! ----- वादय ।

क. वीणा

ख. वीणाम्

ग. वीणायाम्

घ. वीणानाम्

(ii) अहं ----- तण्डुलमूल्यं दास्यामि ।

क. तुभ्यम्

ख. तव

ग. त्वम्

घ. युष्माकम्

(iii) ----- स्वयमेव अम्भः न पिबन्ति ।

क. नदी

ख. नद्यः

ग. नदीनाम्

घ. नद्यौ

(iv) छात्रः स्वस्य ----- खेलति ।

क. हस्ताय

ख. हस्तः

ग. हस्तौ

घ. हस्ताभ्याम्

(v) त्वं ----- पूजय ।

क. साधून्

ख. साधुभ्यः

ग. साधोः

घ. साधवः

3. उपपदविभक्तेः नियमानुसारम् अधोलिखितानि वाक्यानि पूरयत । (केवलं प्रश्नचतुष्टयम्)

1x4=4

(i) जीवाः ----- विना न जीवन्ति ।

क. वायुः

ख. वायोः

ग. वायौ

घ. वायवः

(ii) बालिका ----- सह आपणं गच्छति ।

क. माता

ख. मात्रा

ग. मातुः

घ. मातरम्

(iii) ----- परितः वृक्षाः सन्ति ।

क. गृहम्

ख. गृहेण

ग. गृहाय

घ. गृहात्

(iv) ----- नमः ।

क. सरस्वतीम्

ख. सरस्वत्यै

ग. सरस्वतीः

घ. सरस्वत्या

(v) पिता ----- स्निह्यति ।

क. पुत्राय

ख. पुत्रात्

ग. पुत्रे

घ. पुत्रम्

4. अधोलिखित-वाक्यानि उचितधातुरूपाणां सहायतया पूरयत (केवलं प्रश्नचतुष्टयम्)

1x4=4

(i) भक्ताः देवं ----- ।

क. सेवते

ख. सेवन्ते

ग. सेवसे

घ. सेवामहे

(ii) वयं सुन्दराणि चित्राणि ----- ।

क. पश्यामः

ख. पश्यन्ति

ग. पश्यथ

घ. पश्यावः

(iii) गृहे श्वः महोत्सवः ----- ।

क. भविष्यतः

ख. भविष्यन्ति

ग. भविष्यति

घ. भविष्यथः

(iv) सर्वे ----- निरामयाः ।

क. अस्तु

ख. मन्तु

ग. एधि

घ. असानि

(v) छात्राः गृहकार्यं ----- ।

क. कुर्यात्

ख. कुर्याः

ग. कुर्युः

घ. कुर्याम

5. अधोलिखितवाक्येषु प्रत्ययान् संयोज्य विभज्य वा लिखत । (केवलं प्रश्नचतुष्टयम्)

1x4=4

(i) तव आकर्ष्य वीणाम् ----- ।

क. आ+कर्ण्+ल्यप्

ख. आ+कर्ण्+तुमुन्

ग. आ+कर्ण्+क्त्वा

घ. आ+कर्ण्+क्तवतु

(ii) बालिका रुदु+तुमुन् आरब्धा ।

क. रुदित्वा

ख. रोदितवती

ग. रोदितुम्

घ. रुदति

(iii) सा बृहत्तमा मञ्जूषां गृहीतवती ।

क. ग्रह्+क्तवतु

ख. ग्रह्+क्त्वा

ग. ग्रह्+तुमुन्

घ. ग्रह्+ल्यप्

(iv) श्रूयतां धर्मसर्वस्वं श्रु+क्त्वा चैवावधार्यताम् ।

क. श्रूय

ख. श्रोतुम्

ग. श्रुतवान्

घ. श्रुत्वा

(v) ते निर्गुणं प्राप्य भवन्ति दोषाः ।

क. प्र+आप्+क्त्वा

ख. प्र+आप्+ल्यप्

ग. प्र+आप्+तुमुन्

घ. प्र+आप्+क्तवतु

6. संख्यावाचकपदैः वाक्यानि पूरयत (केवलं प्रश्नत्रयम्)

1x3=3

(i) -----(1)बालः पाठम् अपठत् ।

क. एका

ख. एकः

ग. एकम्

घ. द्वौ

(ii) शिवस्य -----(3) नेत्राणि सन्ति ।

क. त्रीणि

ख. त्रयः

ग. तिस्रः

घ. द्वे

(iii) भोजः -----(55) वर्षाणि राज्यं शशास ।

क. पञ्च

ख. पञ्चाशत्

ग. पञ्चदश

घ. पञ्चपञ्चाशत्

(iv) तस्य समीपे ----- (100) रूप्यकाणि सन्ति ।

क. शतानि

ख. सहस्रम्

ग. शतम्

घ. दश

7. अधोलिखितवाक्येषु रेखाङ्कितपदानाम् उपसर्गं पृथक् कृत्वा लिखत । (केवलं प्रश्नद्वयम्)

1x2=2

(i) सा काकं निर्भत्सयन्ती प्रावोचत् ।

क. निर्

ख. प्र

ग. नि

घ. भर्त्स

(ii) निनादय नदीनाम् अये वाणि !

क. निर्

ख. नद्

ग. नि

घ. वि

(iii) आस्वाद्यतोयाः प्रवहन्ति ।

क. प्रति

ख. प्र

ग. अप

घ. अव

(iv) श्रूयतां धर्मसर्वस्वं श्रु+क्त्वा चैवावधार्यताम् ।

क. श्रूय

ख. श्रोतुम्

ग. श्रुतवान्

घ. श्रुत्वा

(v) ते निर्गुणं प्राप्य भवन्ति दोषाः ।

क. प्र+आप्+क्त्वा

ख. प्र+आप्+ल्यप्

ग. प्र+आप्+तुमुन्

घ. प्र+आप्+क्तवतु

6. संख्यावाचकपदैः वाक्यानि पूरयत (केवलं प्रश्नत्रयम्)

1x3=3

(i) -----(1) बालः पाठम् अपठत् ।

क. एका

ख. एकः

ग. एकम्

घ. द्वौ

(ii) शिवस्य -----(3) नेत्राणि सन्ति ।

क. त्रीणि

ख. त्रयः

ग. तिस्रः

घ. द्वे

(iii) भोजः -----(55) वर्षाणि राज्यं शशास ।

क. पञ्च

ख. पञ्चाशत्

ग. पञ्चदश

घ. पञ्चपञ्चाशत्

(iv) तस्य समीपे ----- (100) रूप्यकाणि सन्ति ।

क. शतानि

ख. सहस्रम्

ग. शतम्

घ. दश

7. अधोलिखितवाक्येषु रेखाङ्कितपदानाम् उपसर्गं पृथक् कृत्वा लिखत । (केवलं प्रश्नद्वयम्)

1x2=2

(i) सा काकं निर्भत्सयन्ती प्रावोचत् ।

क. निर्

ख. प्र

ग. नि

घ. भर्त्स

(ii) निनादय नदीनाम् अये वाणि !

क. निर्

ख. नद्

ग. नि

घ. वि

(iii) आस्वाद्यतोयाः प्रवहन्ति ।

क. प्रति

ख. प्र

ग. अप

घ. अव

पठितावबोधनम्

8. रेखाङ्कितपदानि आधृत्य समुचितं प्रश्नवाचकपदं चिनुत - ( केवलं प्रश्नपञ्चकम् )

1x5=5

(i) बालिका निर्धनमातुः दुहिता आसीत् ।

क) कस्य

ख) कस्याः

ग) का

घ) कया

(ii) मल्लिका सखीभिः सह धर्मयात्रायै गच्छति स्म ?

क) काभिः

ख) कैः

ग) का

घ) काः

(iii) वृत्तं यत्नेन संरक्षेत् ।

क) कान्

ख) कः

ग) केन

घ) कम्

(iv) खलानां मैत्री द्वायेव भवति ।

क) कान्

ख) केषाम्

ग) कम्

घ) काम्

(v) नद्यः स्वयमेव जलं न पिबन्ति ।

क) कः

ख) का

ग) कस्याः

घ) काः

(vi) पुरुषैः सदा गुणेषु प्रयत्नः कर्तव्यः ।

क) काभिः

ख) कैः

ग) केन

घ) कः

9. अधोलिखितवाक्येषु रेखाङ्कितपदानां प्रसङ्गानुसारं उचितार्थं चिनुत । ( केवलं प्रश्नचतुष्टयम् ) 1x4=4

(i) वारिबाहाः सस्यं न अदन्ति ।

क) गच्छन्ति

ख) खादन्ति

ग) फलन्ति

घ) आगच्छन्ति

(ii) वृद्धायाः दुहिता विनम्रा मनोहरा चासीत् ।

क) माता

ख) भ्राता

ग) पुत्री

घ) पुत्रः



(iii) वसन्ते सरसा रसालाः लसन्ति ।

क) मधुमासे

ख) ग्रीष्मऋतौ

ग) हेमन्तऋतौ

घ) वर्षर्तौ

(iv) सलिलं सलीलम् उच्छलेत् ।

क) ललितम्

ख) सागरः

ग) जलम्

घ) नदी

(v) क्षिप्रम् अक्रियमाणस्य रसं कालः पिबति ।

क) मन्दम्

ख) शनैः

ग) दूरम्

घ) शीघ्रम्

10. भाषिककार्यसम्बद्धानां प्रश्नानां समुचितम् उत्तरं विकल्पेभ्यः चिनुत – ( केवलं प्रश्नषट्कम् ) 1x6=6

(i) न एतादृशं स्वादु भोजनमद्यावधि बालिका खादितवती । अत्र विशेषणपदं किम् ?

क) भोजनम्

ख) स्वादु

ग) बालिका

घ) न

(ii) शिवास्ते सन्तु पन्थानः । अस्मिन् वाक्ये मार्गाः इत्यर्थे किं पदं प्रयुक्तम् ?

क) शिवाः

ख) ते

ग) पन्थानः

घ) सन्तु

(iii) नद्यः समुद्रमासाद्य भवन्त्यपेयाः । अस्मिन् वाक्ये कर्तृपदं किम् ?

क) अपेयाः

ख) भवन्ति

ग) समुद्रम्

घ) नद्यः

(iv) गुणयुक्तो दरिद्रोऽपि नेश्वरैरगुणैः समः । धनिकः पदस्य विलोमपदं किं प्रयुक्तम् ?

क) समः

ख) दरिद्रः

ग) गुणयुक्तः

घ) ईश्वरः

(v) स्वनतीन्ततिम्प्रेक्ष्य मलिनामलीनां निनादय वाणि ! वीणाम् । अत्र पङ्क्तिम् इत्यर्थे किं पदं प्रयुक्तम् ?

क) ततिम्

ख) निनादय

ग) वीणाम्

घ) स्वनन्तीम्

(vi) वृक्षस्योपरि विलोक्य सा च आश्चर्यचकिता सञ्जाता । ऊर्ध्वम् इत्यर्थे किं अव्ययपदं प्रयुक्तम् ?

क) सञ्जाता

ख) उपरि

ग) चकिता

घ) च

(vii) नाहं पापकर्म करोमि । अत्र कर्तृपदं किम् ?

क) पापकर्म

ख) नाहं

ग) अहम्

घ) न

\*\*\*\*\*



**SINDHI HIGH SCHOOL, BENGALURU**  
**HALF-YEARLY EXAMINATION [2021-22]**  
**SUBJECT: I.2 KANNADA**

Class: IX

Date: 08.10.2021

Max Marks: 40

Time: 90 mins.

No. of sides: 12

**ಸೂಚನೆಗಳು:**

\*ಪ್ರಶ್ನೆಪತ್ರಿಕೆಯು A, B ಮತ್ತು C ಎಂಬ ಮೂರು ವಿಭಾಗಗಳನ್ನು ಒಳಗೊಂಡಿದೆ.

\*ಒಟ್ಟು 50 ಬಹು ಆಯ್ಕೆಯ ಪ್ರಶ್ನೆಗಳಿರುತ್ತವೆ. ಅವುಗಳಲ್ಲಿ ಕೇವಲ 40 ಪ್ರಶ್ನೆಗಳಿಗೆ ಮಾತ್ರ ಉತ್ತರಿಸಬೇಕು.

\*ವಿಭಾಗ-A, ವಾಚನ ಮತ್ತು ಗ್ರಹಿಕಾ ಕೌಶಲ್ಯದಲ್ಲಿ ಎರಡು ಗದ್ಯಾಂಶಗಳನ್ನು ಕೊಡಲಾಗಿದೆ. ಪ್ರತಿ ಗದ್ಯಾಂಶದಲ್ಲಿ 6 ಪ್ರಶ್ನೆಗಳನ್ನು ಕೊಡಲಾಗಿದೆ. ಅವುಗಳಲ್ಲಿ ಕೇವಲ 5 ಪ್ರಶ್ನೆಗಳಿಗೆ ಮಾತ್ರ ಉತ್ತರಿಸಬೇಕು.

\*ವಿಭಾಗ-B, ಅನ್ವಯಿಕ ವ್ಯಾಕರಣ ವಿಭಾಗದಲ್ಲಿ ಕೊಟ್ಟಿರುವ 13 ಪ್ರಶ್ನೆಗಳಲ್ಲಿ 10 ಪ್ರಶ್ನೆಗಳಿಗೆ ಮಾತ್ರ ಉತ್ತರಿಸಬೇಕು.

\*ವಿಭಾಗ-C, ಗದ್ಯ, ಪದ್ಯ ಮತ್ತು ಪಠ್ಯ ಪೂರಕ ಅಧ್ಯಯನ ವಿಭಾಗದಲ್ಲಿ ಕೊಟ್ಟಿರುವ 25 ಪ್ರಶ್ನೆಗಳಲ್ಲಿ 20 ಪ್ರಶ್ನೆಗಳಿಗೆ ಮಾತ್ರ ಉತ್ತರಿಸಬೇಕು.

ವಿಭಾಗ-A	ವಾಚನ ಮತ್ತು ಗ್ರಹಿಕಾ ಕೌಶಲ್ಯ	10 ಅಂಕಗಳು
ವಿಭಾಗ-B	ಅನ್ವಯಿಕ ವ್ಯಾಕರಣ	10 ಅಂಕಗಳು
ವಿಭಾಗ-C	ಪಠ್ಯಗಳ ಅಧ್ಯಯನ	20 ಅಂಕಗಳು
	ಒಟ್ಟು	40 ಅಂಕಗಳು

**ವಿಭಾಗ- A**

**(ವಾಚನ ಮತ್ತು ಗ್ರಹಿಕಾ ಕೌಶಲ್ಯ) 10 ಅಂಕಗಳು**

I. (a) ಈ ಕೆಳಗಿನ ಗದ್ಯಾಂಶವನ್ನು ಓದಿಕೊಂಡು, ಅದರ ಕೆಳಗೆ ಕೊಟ್ಟಿರುವ 6 ಪ್ರಶ್ನೆಗಳಲ್ಲಿ 5 ಕ್ಕೆ ಮಾತ್ರ ಉತ್ತರಿಸಿ. (1×5=5)

ಶ್ರೀ ಕನಕದಾಸರು ( ಮೂಲ ಹೆಸರು- ತಿಮ್ಮಪ್ಪನಾಯಕ) (೧೫೦೮-೧೬೦೬) ಕರ್ನಾಟಕದಲ್ಲಿ ೧೫-೧೬ ನೆಯ ಶತಮಾನಗಳಲ್ಲಿ ಜನಪ್ರಿಯವಾದ ಭಕ್ತಿ ಪಂಥದ ಮುಖ್ಯ ಹರಿದಾಸರಲ್ಲಿ ಒಬ್ಬರು. ದಾಸ ಪರಂಪರೆಯಲ್ಲಿ ಬರುವ ೨೫೦ಕ್ಕೂ ಹೆಚ್ಚು ದಾಸರಲ್ಲಿ ಕನಕದಾಸರೊಬ್ಬರೇ ಶುದ್ಧ ದಾಸರು. ಹಾಗೆಯೇ ಕನ್ನಡ ಭಾಷೆಯ

ಪ್ರಸಿದ್ಧ ಕೀರ್ತನಕಾರರು ಮತ್ತು ಪುರಂದರದಾಸರೊಂದಿಗೆ ಕರ್ನಾಟಕ ಸಂಗೀತದ ಮೂಲಭೂತ ಸಿದ್ಧಾಂತಗಳಿಗೆ ಕಾಣಿಕೆಯನ್ನಿತ್ತವರು. ಕನಕದಾಸರು ಮತ್ತು ಪುರಂದರದಾಸರನ್ನು ಕರ್ನಾಟಕದ ಕೀರ್ತನ ಸಾಹಿತ್ಯದ ಅಶ್ವಿನಿ ದೇವತೆಗಳೆಂದು ಬಣ್ಣಿಸಲಾಗಿದೆ. ಕನಕದಾಸರು ದಂಡನಾಯಕರಾಗಿದ್ದು ಯುದ್ಧವೂಂದರಲ್ಲಿ ಸೋತ ಅವರಿಗೆ ವೈರಾಗ್ಯ ಉಂಟಾಗಿ ಹರಿಭಕ್ತರಾದರಂತೆ.

ಕನಕದಾಸರು ಹಾವೇರಿ ಜಿಲ್ಲೆಯ ಶಿಗ್ಗಾವಿ ತಾಲೂಕಿನ ಬಾಡಗ್ರಾಮದಲ್ಲಿ ೧೫೦೯ ರಲ್ಲಿ ಕುರುಬ ಜನಾಂಗಕ್ಕೆ ಸೇರಿದ ಬಚ್ಚಮ್ಮ ಮತ್ತು ಬೀರಪ್ಪನಾಯಕ ಎಂಬ ದಂಪತಿಗಳ ಮಗನಾಗಿ ಜನಿಸಿದರು. ೧೫-೧೬ ನೆಯ ಶತಮಾನದಲ್ಲೇ ಜಾತಿ ವ್ಯವಸ್ಥೆಯ ಬಗ್ಗೆ ಸಮರ ಸಾರಿದ ಭಕ್ತನೆಂದರೆ ಕನಕದಾಸರು ಎಂದರೆ ತಪ್ಪಾಗಲಾರದು. ಕನಕದಾಸರು ಅನೇಕ ಕೀರ್ತನೆಗಳನ್ನು ರಚಿಸಿದ್ದಾರೆ.

ಪುರಂದರದಾಸರ ಸಮಕಾಲೀನರಲ್ಲಿ ಹಾಗೂ ವ್ಯಾಸರಾಯರ ಶಿಷ್ಯರಲ್ಲಿ ಕನಕದಾಸರೂ ಒಬ್ಬರು. ಇವರು ಭಾಗವತ ದೃಷ್ಟಿಯ ಕವಿ, ಕೀರ್ತನಕಾರ ಸಾಮಾಜಿಕವಾಗಿ ಕೆಳವರ್ಗದಿಂದ ಬಂದು ದೀಕ್ಷೆ ಪಡೆದು ಉತ್ತಮ ಕೃತಿಗಳನ್ನು ರಚಿಸಿ ದಾಸ ಸಾಹಿತ್ಯಕ್ಕೆ ಒಂದು ಹೊಸ ಆಯಾಮವನ್ನು ದೊರಕಿಸಿ ಕೊಟ್ಟರು. 'ಆದಿಕೇಶವ' ಎಂಬ ಅಂಕಿತದಲ್ಲಿ ಕೀರ್ತನೆಗಳನ್ನು ತತ್ವಗರ್ಭಿತವಾದ ಮುಂಡಿಗೆಗಳನ್ನು ರಚಿಸಿದ್ದಲ್ಲದೆ, ಹರಿಭಕ್ತಿಸಾರ, ರಾಮಧಾನ್ಯಚರಿತೆ, ನಳಚರಿತ್ರೆ, ಮೋಹನ ತರಂಗಿಣಿ ಮುಂತಾದ ಕೃತಿಗಳನ್ನು ರಚಿಸಿದರು. ಇವರ ಕೃತಿಗಳಲ್ಲಿ ಜನತೆಯ ಮೌಢ್ಯ ಕಂಡಾಚಾರ, ಪೊಳ್ಳು ನಂಬಿಕೆ, ವರ್ಣ ವ್ಯವಸ್ಥೆಯನ್ನು ಖಂಡಿಸಿರುವುದಲ್ಲದೆ, ದೈವಭಕ್ತಿ, ಜೀವನ ದರ್ಶನ, ಸಮಾಜ ವಿಮರ್ಶೆ, ಲೋಕಾನುಭವ ಕಾವ್ಯಾತ್ಮಕವಾಗಿ ಹೊರಹೊಮ್ಮಿರುವುದನ್ನು ಕಾಣಬಹುದು. ಕನಕದಾಸರ ಕಾವ್ಯಗಳಲ್ಲಿ ಮೋಹನತರಂಗಿಣಿಯು ಒಂದು ಸಾಂಗತ್ಯ ಗ್ರಂಥ. ಇದಕ್ಕೆ ಕೃಷ್ಣಚರಿತೆ ಎಂಬ ಮತ್ತೊಂದು ಹೆಸರೂ ಇದೆ. 'ನಳಚರಿತ್ರೆ' ಅತ್ಯಂತ ರಮ್ಯವಾದ ಒಂದು ಕಥನಕವನವಾಗಿ ಮಹಾಭಾರತದ ಕಥೆಯನ್ನು ಹೊಂದಿರುವ ಇದು ಭಾಮಿನಿಷಟ್ಪದಿಯಲ್ಲಿದೆ. 'ರಾಮಧಾನ್ಯ ಚರಿತ್ರೆ' ಒಂದು ಖಂಡ ಕಾವ್ಯ ಇದರಲ್ಲಿ ರಾಗಿಯ ಹಿರಿಮೆಯನ್ನು ಎತ್ತಿ ಹಿಡಿಯುವ ಪ್ರಯತ್ನವಿದೆ. ಕನಕದಾಸರ ಕವಿತಾಶಕ್ತಿ ಸಂಪೂರ್ಣವಾಗಿ ಅರಳಿರುವುದು ಅವರ

ಕೀರ್ತನೆಗಳಲ್ಲಿ ಕೀರ್ತನೆಗಳು ನುಡಿಗೆ ತೊಡವಾದ ಹಿರಿಯ ಭಾವಗೀತೆಗಳಾಗಿವೆ.

ಪ್ರಶ್ನೆಗಳು:

1. ಕನಕದಾಸರ ಗುರುಗಳು ಇವರು.

- |                 |                |
|-----------------|----------------|
| 1. ಮಧ್ವಾಚಾರ್ಯರು | 2. ವಾದಿರಾಜರು   |
| 3. ವ್ಯಾಸರಾಯರು   | 4. ಪುರಂದರದಾಸರು |

2. ಕನಕದಾಸರು ರಚಿಸಿರುವ ಕೃತಿ ರಾಮಧಾನ್ಯಚರಿತೆ \_\_\_\_\_ ಹಿರಿಮೆಯನ್ನು ಸಾರುತ್ತದೆ.

- |          |          |
|----------|----------|
| 1. ಜೋಳದ  | 2. ರಾಗಿಯ |
| 3. ಗೋಧಿಯ | 4. ಭತ್ತದ |

3. ಸಾಂಗತ್ಯದಲ್ಲಿ ರಚಿಸಿರುವ ಕನಕದಾಸರ ಕೃತಿ

- |                 |                |
|-----------------|----------------|
| 1. ಮೋಹನ ತರಂಗಿಣಿ | 2. ಹರಿಭಕ್ತಿಸಾರ |
| 3. ದೈವಭಕ್ತಿ     | 4. ನಳಚರಿತ್ರೆ   |

4. ಕನಕದಾಸರು ಮತ್ತು ಪುರಂದರದಾಸರನ್ನು ಕರ್ನಾಟಕ ಕೀರ್ತನ ಸಾಹಿತ್ಯದಲ್ಲಿ ಹೀಗೆಂದು ಬಣ್ಣಿಸಲಾಗಿದೆ.

- |                   |                    |
|-------------------|--------------------|
| 1. ಆರಾಧ್ಯ ದೇವತೆ   | 2. ಅಶ್ವಿನಿದೇವತೆಗಳು |
| 3. ದೇವಾನುದೇವತೆಗಳು | 4. ದೇವಲೋಕದ ದೇವತೆ   |

5. ಬಾಡ ಗ್ರಾಮವು \_\_\_\_\_ ಜಿಲ್ಲೆಯಲ್ಲಿದೆ.

- |               |            |
|---------------|------------|
| 1. ದಾವಣಗೆರೆ   | 2. ಹಾವೇರಿ  |
| 3. ಚಿತ್ರದುರ್ಗ | 4. ಧಾರಾವಾಡ |

6. ಕನಕದಾಸರ ಕೀರ್ತನೆಗಳ ಅಂಕಿತ \_\_\_\_\_

- |              |             |
|--------------|-------------|
| 1. ಚೆನ್ನಕೇಶವ | 2. ಕೇಶವ ಹರಿ |
| 3. ಹರಕೇಶವ    | 4. ಆದಿಕೇಶವ  |

(b) ಈ ಕೆಳಗೆ ಕೊಟ್ಟಿರುವ ಪರಿತ ಗದ್ಯಭಾಗ 'ಬೆಡಗಿನ ತಾಣ ಜಯಪುರ' ಪಾಠವನ್ನು ಓದಿಕೊಂಡು, ಅದರ ಕೆಳಗೆ ಕೊಟ್ಟಿರುವ 6 ಪ್ರಶ್ನೆಗಳಲ್ಲಿ 5 ಕ್ಕೆ ಮಾತ್ರ ಉತ್ತರಿಸಿ. (1x5=5)

ಜಯಪುರದ ಮುಖ್ಯ ಬೀದಿಗಳು ನನ್ನ ಮನಸ್ಸಿನ ಮೇಲೆ ತುಂಬಾ ಪರಿಣಾಮವನ್ನು ಬೀರಿದವು. ಒಂದು ಶತಮಾನದ ಹಿಂದೆ ಆ ನಗರದ ಬೀದಿಗಳು ನಿರ್ಮಾಣವಾಗಿದ್ದರೂ ಬಹಳ ಅಗಲವಾದ ಬೀದಿಗಳವು; ನೇರವಾದವುಗಳು. ಬಹುದೂರದಿಂದ ಕಾಣಿಸುವ ಅಂಗಡಿ-ಮನೆಗಳ ದೇಶೀ ವಾಸ್ತುರಚನೆ ಚೆನ್ನಾಗಿ ಶೋಭಿಸುತ್ತದೆ. ಇಲ್ಲಿನ ಒಂದೊಂದು ಮನೆಯೂ ಒಂದೊಂದು ಶೈಲಿಯದೂ ಒಂದೊಂದು ದೇಶದ್ದೂ ಆಗಿ ಕಾಣಿಸುವುದಿಲ್ಲ. ಆದುದರಿಂದಲೇ ನನಗೆ ಅವುಗಳ ಮೇಲೆ ಮೋಹ. ಇಲ್ಲಿನ ಮುಖ್ಯ ಬೀದಿಗಳು ಸಂಧಿಸುವಲ್ಲಿ ಸುಂದರವಾದ ಚೌಕಗಳಿವೆ. ಕೆಲವೊಂದು ಕಡೆಗಳಲ್ಲಿ ಭವ್ಯವಾದ ಮಹಾದ್ವಾರಗಳಿವೆ. ಅಲ್ಲದೆ ಜಯಪುರ ಬಣ್ಣಗಾರರ ತವರೂರು. ಬಣ್ಣ ಹಾಕುವ ಕುಶಲಿಗರು ಆ ಊರಿನಲ್ಲಿ ಬಹಳ ಮಂದಿ ಇದ್ದಾರೆ. ಬಣ್ಣದ ಮೋಹವಿರುವ ಜನರೂ ಬಹಳ ಇದ್ದಾರೆ. ಗಿಡಮರಗಳಿಲ್ಲದ ಸ್ಥಳದಲ್ಲಿ ವಾಸಿಸುವ ಜನರಿಗೆ, ಕಣ್ಣಿನ ತಣಿವು ಹೇಗೆ ಬರಬೇಕು? ಹಾಗೆಂದೋ ಏನೋ, ಇಲ್ಲಿನ ಜನರು ಅದರಲ್ಲೂ ಹೆಂಗಸರೂ ರಂಗು ರಂಗಿನ ಲಂಗ, ಪಾಯಿಜಾಮಾ, ಸೀರೆ, ರವಿಕೆ, ಮೇಲುಬೆ ತೊಡುವ ಅಭ್ಯಾಸದವರು. ಅದರಲ್ಲೂ ಕೆಂಪು, ಕಿತ್ತಳೆ, ಹಳದಿ ಎಂದರೆ ಪ್ರಾಣ. ನಿತ್ಯವೂ ಹೋಳಿ ಹುಣ್ಣಿಮೆ ಮಾಡುವವರಂತೆ ಬಣ್ಣದ ಚೆಲ್ಲಾಟ ಅವರ ಬಟ್ಟೆಗಳಲ್ಲಿ. ಗಂಡಸರೂ ರಂಗುರಾಯರೇ. ಅವರ ಪಂಚೆ, ಅಂಗಿಗಳಲ್ಲಿ ರಂಗು ಕಾಣಿಸದಿದ್ದರೂ ಮುಂಡಾಸಿನ ಮೂವತ್ತು ಮೊಳಗಳಲ್ಲಿ ಮುನ್ನೂರು ಬಣ್ಣಗಳನ್ನು ಮೆರೆಯಿಸುವುದುಂಟು. ಸುತ್ತು ಸುತ್ತಿನ ಅವರ ದೇಶೀ ಮುಂಡಾಸನ್ನು ಚೆನ್ನಾಗಿ ಬಿಗಿದುಕೊಂಡಾಗ ಬಲು ಗಂಭೀರವಾಗಿಯೇ ಕಾಣಿಸುತ್ತದೆ.

ನಾವು ನಗರವನ್ನು ಕಳೆದು, ಸುಂದರವಾದ ರಸ್ತೆಗಳಲ್ಲಿ ಹಾಯ್ದು ಉನ್ನತ ಬೆಟ್ಟಗಳಿಗೆ ಭಿಮುಖವಾಗಿ ಹೊರಟೆವು. ಇನ್ನೊಂದು ನಾಲ್ಕು ಮೈಲಿಗೆ ಅಂಬೇರದ ಬೆಟ್ಟ ಸಿಗುತ್ತದೆ. ಅಂಬೇರ ಜಯಪುರದ ಪೂರ್ವಕಾಲದ ರಾಜಧಾನಿ. ಹಳೆಯ ಕೋಟೆ, ಅರಮನೆಗಳೆಲ್ಲ ಅಲ್ಲಿವೆ. ಸಂಜೆ, ಮುಂಜಾನೆಗಳಲ್ಲಿ ಅಲ್ಲಿಯ ಗುಡ್ಡ, ಬೆಟ್ಟ ಹಾಗೂ ಕಣಿವೆಗಳು ಅಪೂರ್ವ ಮೋಹಕತೆಯನ್ನು ತಾಳುತ್ತವೆ. ಹಿಂದೆ ನಾನು ಅಲ್ಲಿಗೆ

ಹೋದಾಗ ಜನವಸತಿ ಇದ್ದಿರಲಿಲ್ಲ. ಹಲವಾರು ಪ್ರಾಚೀನ ಗುಡಿಗೋಪುರಗಳು ಗೂಬೆಯ ಮನೆಗಳಾಗಿದ್ದವು. ಈಗ ಹಾಗಿಲ್ಲ. ನೂರಾರು ಸಿಂಧೀ ಕುಟುಂಬಗಳು ಅಲ್ಲಿ ಮನೆ ಮಾಡಿಕೊಂಡಿವೆ. ಅಂಬೇರದ ಬುಡದಲ್ಲಿ ಒಂದು ಪುಟ್ಟ ಕೆರೆ. ಕೆರೆಯ ನೋಟ ಸುಂದರವಾದ ನೋಟ. ಸುತ್ತಲಿನ ಮರಗಳಲ್ಲಿ ಎಳೆ ಹಸುರು ತಳಿರುಗಳು ಚಿಗುರಿದ್ದು, ಮರಗಳು ಹೆಚ್ಚಾಗಿ ಕಾಣಿಸುತ್ತಿದ್ದವು. ಕೆರೆಯ ಮಗ್ಗುಲಿನಿಂದ ಮುಂದುವರಿದರೆ, ಸುಂದರ ಉದ್ಯಾನವೊಂದು ಕಾಣಿಸಿಗುತ್ತದೆ. ಬಳಿಯಲ್ಲೇ ಕೆಂಪು ಕಲ್ಲಿನ ಹಳೆಯ ಕಾಲದ ಕೆಲವೊಂದು ಸುಂದರ ಪ್ರತಿಮೆಗಳಿವೆ. ಪ್ರಾಚೀನ ರಜಪೂತ ಕೆತ್ತನೆಯ ಸರಳತೆ, ವೈಖರಿ, ಭವ್ಯತೆಗಳೆಲ್ಲ ಕಾಣಿಸುತ್ತವೆ. ಉದ್ಯಾನವನ್ನು ಹಾಯ್ದು ದಿಡ್ಡಿಯ ಬಾಗಿಲನ್ನು ದಾಟಿ, ಕೋಟೆಯ ದಾರಿಯನ್ನು ಏರಿ ಹೋಗಬೇಕು. ಏರುತ್ತಾ ಹೋದಂತೆ, ಕೆಳಗಿನ ನೋಟ ರಮಣೀಯವಾಗುತ್ತಾ ಹೋಗುವುದು. ನಾವು ಅವಸರ ಅವಸರವಾಗಿ ಕೋಟೆಯನ್ನು ಸೇರಿದೆವು. ಕೋಟೆಯ ಒಳಗೆ ಅರಮನೆ. ಅರಮನೆಗೆ ಸಂಬಂಧಿಸಿದ ಸಭಾಂಗಣ ದೇವಾಲಯ ಮೊದಲಾದವನ್ನು ಅಲ್ಲಿ ಎರಡು ಮೂರು ಅಂತಸ್ತುಗಳಲ್ಲಿ ರಚಿಸಿದ್ದಾರೆ.

**ಪ್ರಶ್ನೆಗಳು:**

7. ಜಯಪುರದ ಜನರಿಗೆ ಇವು ಇಷ್ಟವಾದ ಬಣ್ಣಗಳಾಗಿವೆ.

1. ಕಂದು, ಬೂದು, ಬಿಳಿ      2. ಕೇಸರಿ, ಬಿಳಿ, ಹಸಿರು
3. ಕೆಂಪು, ಕಿತ್ತಳೆ, ಹಳದಿ      4. ಕೇಸರಿ, ಕೆಂಪು, ನೀಲಿ

8. ಜಯಪುರದಲ್ಲಿ ಬಹುದೂರದಿಂದ ಕಾಣಿಸುವ ಅಂಗಡಿ-ಮನೆಗಳು \_\_\_\_\_ ವಾಸ್ತುರಚನೆಯದಾಗಿದೆ.

1. ದೇಶೀ      2. ವಿದೇಶೀ
3. ಪುರಾತನ      4. ಆಧುನಿಕ

9. ಜಯಪುರದ ಜನರ ಬಟ್ಟೆಗಳಲ್ಲಿ ಕಾಣುವ ಬಣ್ಣದ ಚೆಲ್ಲಾಟ ಹೀಗಿರುತ್ತದೆ.

1. ಬಣ್ಣದ ಚಿತ್ತಾರದಂತೆ      2. ಬಣ್ಣದ ರಂಗೋಲಿಯಂತೆ
3. ಹೋಳಿ ಅಮಾವಾಸ್ಯೆಯಂತೆ      4. ಹೋಳಿ ಹುಣ್ಣಿಮೆಯಂತೆ

10. ಹಲವಾರು ಪ್ರಾಚೀನ ಗುಡಿಗೋಪುರಗಳು ಇವುಗಳ ಮನೆಗಳಾಗಿದ್ದವು.

- |            |             |
|------------|-------------|
| 1. ನವಿಲುಗಳ | 2. ಗೂಬೆಗಳ   |
| 3. ಕಾಗೆಗಳ  | 4. ಕೋಗಿಲೆಗಳ |

11. ಹಿಂದೆ ಲೇಖಕರು ಅಂಬೇರಕ್ಕೆ ಹೋದಾಗ ಅಲ್ಲಿ \_\_\_\_\_ ಇರಲಿಲ್ಲ.

- |             |              |
|-------------|--------------|
| 1. ಜನವಸತಿ   | 2. ಅರಮನೆ     |
| 3. ಅಂಗಡಿಗಳು | 4. ದೇವಾಲಯಗಳು |

12. ಲೇಖಕರು ಮತ್ತು ಅವರ ಮಿತ್ರರು ಕೋಟೆಯ ದಾರಿಯನ್ನು ಏರಿ ಹೋಗಲು ಈ ಬಾಗಿಲನ್ನು ದಾಟಿ ಹೋದರು.

- |            |             |
|------------|-------------|
| 1. ಮನೆಯ    | 2. ಉದ್ಯಾನವನ |
| 3. ದಿಡ್ಡಿಯ | 4. ಕೋಟೆಯ    |

**ವಿಭಾಗ-B ಅನ್ವಯಿಕ ವ್ಯಾಕರಣ (10 ಅಂಕಗಳು)**

II. ಈ ಕೆಳಗಿನ ಪ್ರತಿಯೊಂದು ಪ್ರಶ್ನೆಗೂ ನಾಲ್ಕು ಉತ್ತರಗಳನ್ನು ಕೊಡಲಾಗಿದೆ ಸರಿಯಾದ ಉತ್ತರವನ್ನು ಆರಿಸಿ ಬರೆಯಿರಿ.

(1x10=10)

13. 'ಸಭಾಂಗಣ' ಪದವು ಈ ಸಂಧಿಗೆ ಉದಾಹರಣೆಯಾಗಿದೆ.

- |                      |             |
|----------------------|-------------|
| 1. ಸರ್ವರ್ಣದೀರ್ಘ ಸಂಧಿ | 2. ಗುಣ ಸಂಧಿ |
| 3. ವೃದ್ಧಿ ಸಂಧಿ       | 4. ಯಣ್ ಸಂಧಿ |

14. 'ನಡುಬಾನು' ಪದವು ಈ ಸಮಾಸಕ್ಕೆ ಉದಾಹರಣೆಯಾಗಿದೆ.

- |                |                  |
|----------------|------------------|
| 1. ಅಂಶಿ ಸಮಾಸ   | 2. ದ್ವಿಗು ಸಮಾಸ   |
| 3. ಕ್ರಿಯಾ ಸಮಾಸ | 4. ತತ್ಪುರುಷ ಸಮಾಸ |

15. 'ಸ್ನಾನ' - ಈ ಪದದ ಸಮಾನಾರ್ಥಕ ಪದ

- |         |          |        |         |
|---------|----------|--------|---------|
| 1. ನೀರು | 2. ಪಾನೀಯ | 3. ಜಳಕ | 4. ಪಾನಕ |
|---------|----------|--------|---------|

10. ಹಲವಾರು ಪ್ರಾಚೀನ ಗುಡಿಗೋಪುರಗಳು ಇವುಗಳ ಮನೆಗಳಾಗಿದ್ದವು.

- |            |             |
|------------|-------------|
| 1. ನವಿಲುಗಳ | 2. ಗೂಬೆಗಳ   |
| 3. ಕಾಗೆಗಳ  | 4. ಕೋಗಿಲೆಗಳ |

11. ಹಿಂದೆ ಲೇಖಕರು ಅಂಬೇರಕ್ಕೆ ಹೋದಾಗ ಅಲ್ಲಿ \_\_\_\_\_ ಇರಲಿಲ್ಲ.

- |             |              |
|-------------|--------------|
| 1. ಜನವಸತಿ   | 2. ಅರಮನೆ     |
| 3. ಅಂಗಡಿಗಳು | 4. ದೇವಾಲಯಗಳು |

12. ಲೇಖಕರು ಮತ್ತು ಅವರ ಮಿತ್ರರು ಕೋಟೆಯ ದಾರಿಯನ್ನು ಏರಿ ಹೋಗಲು ಈ ಬಾಗಿಲನ್ನು ದಾಟಿ ಹೋದರು.

- |            |             |
|------------|-------------|
| 1. ಮನೆಯ    | 2. ಉದ್ಯಾನವನ |
| 3. ದಿಡ್ಡಿಯ | 4. ಕೋಟೆಯ    |

**ವಿಭಾಗ-B ಅನ್ವಯಿಕ ವ್ಯಾಕರಣ (10 ಅಂಕಗಳು)**

II. ಈ ಕೆಳಗಿನ ಪ್ರತಿಯೊಂದು ಪ್ರಶ್ನೆಗೂ ನಾಲ್ಕು ಉತ್ತರಗಳನ್ನು ಕೊಡಲಾಗಿದೆ ಸರಿಯಾದ ಉತ್ತರವನ್ನು ಆರಿಸಿ ಬರೆಯಿರಿ.

(1x10=10)

13. 'ಸಭಾಂಗಣ' ಪದವು ಈ ಸಂಧಿಗೆ ಉದಾಹರಣೆಯಾಗಿದೆ.

- |                      |             |
|----------------------|-------------|
| 1. ಸರ್ವರ್ಣದೀರ್ಘ ಸಂಧಿ | 2. ಗುಣ ಸಂಧಿ |
| 3. ವೃದ್ಧಿ ಸಂಧಿ       | 4. ಯಣ್ ಸಂಧಿ |

14. 'ನಡುಬಾನು' ಪದವು ಈ ಸಮಾಸಕ್ಕೆ ಉದಾಹರಣೆಯಾಗಿದೆ.

- |                |                  |
|----------------|------------------|
| 1. ಅಂಶಿ ಸಮಾಸ   | 2. ದ್ವಿಗು ಸಮಾಸ   |
| 3. ಕ್ರಿಯಾ ಸಮಾಸ | 4. ತತ್ಪುರುಷ ಸಮಾಸ |

15. 'ಸ್ನಾನ' - ಈ ಪದದ ಸಮಾನಾರ್ಥಕ ಪದ

- |         |          |        |         |
|---------|----------|--------|---------|
| 1. ನೀರು | 2. ಪಾನೀಯ | 3. ಜಳಕ | 4. ಪಾನಕ |
|---------|----------|--------|---------|



29. ಮೀರಾಬಾಯಿ ದೇವಾಲಯವನ್ನು ನೋಡಿದ ನಂತರ ಲೇಖಕರು ತಮ್ಮ ಮಿತ್ರರ ಮನೆಗೆ ಹೊರಟ ಸಮಯ.

1. ಗೋಧೂಳಿಯ ಸಮಯ
2. ಮುಂಜಾನೆಯ ಸಮಯ
3. ಮಧ್ಯಾಹ್ನದ ಸಮಯ
4. ರಾತ್ರಿಯ ಸಮಯ

30. ಜಯಪುರದ ಜಾನಪದ ನೃತ್ಯವನ್ನು ಇವರ ಮನೆಯಲ್ಲಿ ಏರ್ಪಾಟು ಮಾಡಲಾಗಿತ್ತು.

1. ಶ್ರೀಪತಿಯವರ ಮನೆ
2. ರೈಗಳ ಮನೆ
3. ಗೋಪಿನಾಥರ ಮನೆ
4. ಕಾರಂತರ ಮನೆ

31. “ರಾಧಾಕೃಷ್ಣನ್ ಅವರ ತಂದೆಯ ಅಪೇಕ್ಷೆಯಂತೆ ಅವರ ಮಗ \_\_\_\_\_ ಕಲಿಯಬೇಕೆಂಬುದಾಗಿತ್ತು.

1. ಕನ್ನಡ
2. ಸಂಸ್ಕೃತ
3. ಹಿಂದಿ
4. ಉರ್ದು

32. ರಾಧಾಕೃಷ್ಣನ್ ಅವರ ಜನ್ಮದಿನವನ್ನು ಈ ಹೆಸರಿನಿಂದ ಆಚರಿಸಲಾಗುತ್ತದೆ.

1. ಸ್ವಾತಂತ್ರ್ಯ ದಿನ
2. ಗಣರಾಜ್ಯ ದಿನ
3. ಮಕ್ಕಳ ದಿನ
4. ಶಿಕ್ಷಕರ ದಿನ

33. ರಾಷ್ಟ್ರಪತಿಗಳಾಗಿ ರಾಧಾಕೃಷ್ಣನ್ ಅವರು ಪಡೆಯುತ್ತಿದ್ದ ವೇತನ.

1. ಹತ್ತು ಸಾವಿರ ರೂಪಾಯಿಗಳು
2. ಇಪ್ಪತ್ತು ಸಾವಿರ ರೂಪಾಯಿಗಳು
3. ಮೂವತ್ತು ಸಾವಿರ ರೂಪಾಯಿಗಳು
4. ನಲವತ್ತು ಸಾವಿರ ರೂಪಾಯಿಗಳು

34. " ಮಾನವತೆಯೇ ವಿಶ್ವ ಅನುಸರಿಸಬೇಕಾದ ಮಾರ್ಗ" ಎಂದು

ರಾಧಾಕೃಷ್ಣನ್ ಅವರು ತಮ್ಮ ನಿಲುವನ್ನು ಅಭಿವ್ಯಕ್ತಿಸಿದ್ದು ಇಲ್ಲಿ.

1. ಕೆನಡಾ ದೇಶದ ದೂರದರ್ಶನ ಪ್ರಸಾರ ಭಾಷಣದಲ್ಲಿ
2. ಕೆನಡಾ ದೇಶದ ರೇಡಿಯೋ ಪ್ರಸಾರ ಭಾಷಣದಲ್ಲಿ
3. ಭಾರತ ದೇಶದ ದೂರದರ್ಶನ ಪ್ರಸಾರ ಭಾಷಣದಲ್ಲಿ
4. ಭಾರತ ದೇಶದ ರೇಡಿಯೋ ಪ್ರಸಾರ ಭಾಷಣದಲ್ಲಿ

35. ಮೌಲ್ವಿಗಳಿಗೆ ವಾರದಲ್ಲಿ ಈ ಎರಡು ದಿನ ಉರ್ದು ಭಾಷೆಯನ್ನು ಕಲಿಸಲು ಉಪಾಧ್ಯಾಯರನ್ನು ನೇಮಿಸಲಾಗಿತ್ತು.

- |                    |                     |
|--------------------|---------------------|
| 1. ಸೋಮವಾರ, ಮಂಗಳವಾರ | 2. ಬುಧವಾರ, ಗುರುವಾರ  |
| 3. ಶನಿವಾರ, ಭಾನುವಾರ | 4. ಶುಕ್ರವಾರ, ಶನಿವಾರ |

36. ಕವಿ ಇಂತಹ ಹಾಡನ್ನು ಹಾಡಬೇಕೆಂದು ಬಯಸಿದ್ದಾರೆ.

1. ನವಭಾವ, ನವಜೀವ, ನವಶಕ್ತಿಯ
2. ಹಳೆಭಾವ, ಹಳೆಜೀವ, ಹಳೆಶಕ್ತಿಯ
3. ಇಂದು ನೆನ್ನೆಯ ನೆನಪುಗಳ
4. ನಾಳೆಯ ಅನುಭವಗಳ

37. ಬಾನು - ಬುವಿ ಇದರಿಂದ ಬೆಳಗಬೇಕು.

- |              |                   |
|--------------|-------------------|
| 1. ಸೂರ್ಯನಿಂದ | 2. ಪ್ರಪಂಚದಿಂದ     |
| 3. ಶಾಂತಿಯಿಂದ | 4. ವೀರಾಟ್ಟಹಾಸದಿಂದ |

38. ಅಜ್ಞಾನ ತೊಲಗಿಸಲು ಕವಯತ್ರಿ ವಾಗ್ಗೇವಿಯ ಕೈಯಲ್ಲಿ \_\_\_\_\_

ಆಗಲು ಬಯಸಿದ್ದಾರೆ.

- |          |          |
|----------|----------|
| 1. ದೀಪ   | 2. ಗ್ರಂಥ |
| 3. ಕತ್ತಿ | 4. ಮಾಲೆ  |

39. ಗೊರೂರು ರಾಮಸ್ವಾಮಿ ಅಯ್ಯಂಗಾರ್ ಅವರ ಪ್ರವಾಸ ಕಥನವಿದು.

1. ಅಮೆರಿಕಾದಲ್ಲಿ ಗೊರೂರು
2. ಮಾಸ್ಕೋದಲ್ಲಿ ಗೊರೂರು
3. ಅಬೂವಿನಿಂದ ಬರಾಮಕ್ಕೆ
4. ಮಲೆನಾಡಿನ ಸೊಬಗು

40. ಉನ್ನತೋನ್ನತ \_\_\_\_\_ ಶಿಖರವನ್ನೇರಿ ಹಾಡನ್ನು ಹಾಡಬೇಕು.

1. ಹೇಮಾದ್ರಿ
2. ಹಿಮಾದ್ರಿ
3. ಶೇಷಾದ್ರಿ
4. ಸಹ್ಯಾದ್ರಿ

41. ಗಾನರಾಣಿಯರಿಗೆ ಹರಿಶ್ಚಂದ್ರನು ಇದನ್ನು ಬಹುಮಾನವಾಗಿ ಕೊಟ್ಟನು.

1. ಸರ್ವಾಭರಣ
2. ಕೈ ಬಳೆ
3. ಚಿನ್ನದ ಉಂಗುರ
4. ಸಾಮ್ರಾಜ್ಯ

42. ಕಡಿದೊಗೆಯಬೇಕಾದ ಪಾಶಗಳಿವು.

1. ಜಾತಿ- ಧರ್ಮ
2. ಜಾತಿ, ಕುಲ, ಮತ, ಧರ್ಮ
3. ಮತ, ಬೇಧ-ಭಾವ
4. ಲಿಂಗ ತಾರತಮ್ಯ

43. ಪಂಥರಿಬಾಯಿಯವರ ಅಣ್ಣನು ಸ್ಥಾಪಿಸಿದ ನಾಟಕ ಕಂಪನಿಯ ಹೆಸರು \_\_\_\_\_

1. ಆದರ್ಶ ನಾಟಕ ಸಂಘ
2. ಮೈಸೂರು ಕಲಾಕ್ಷೇತ್ರ ನಾಟಕ ಸಂಘ
3. ಇಂದ್ರಜ ನಾಟಕ ಸಂಘ
4. ಕರ್ನಾಟಕ ನಾಟಕ ಸಂಘ

44. ಗಾನರಾಣಿಯರು ಹರಿಶ್ಚಂದ್ರನಲ್ಲಿ ಬೇಡಿದ್ದು\_\_\_\_\_.

1. ಸಾಮ್ರಾಜ್ಯವನ್ನು
2. ಸಿಂಹಾಸನವನ್ನು
3. ಮುತ್ತಿನ ಸತ್ತಿಗೆಯನ್ನು
4. ಆಶ್ರಯವನ್ನು

45. ಪಂಥರಿಬಾಯಿ ನಟಿಸಿದ ಮೂದಲ ಚಿತ್ರ.

1. ಆಪ್ತರಕ್ಷಕ

2. ರಾಣಿ

3. ವಾಣಿ

4. ಹರಿಶ್ಚಂದ್ರ

46. "ರಾಜ ಹರಿಶ್ಚಂದ್ರ ಬಾಯಿಂದ ಸುಳ್ಳು ಹೇಳಿಸಿಯೇ ಸಿದ್ಧ" ಎಂದು ಪಂಥವೊಡ್ಡಿದವರು.

1. ವಸಿಷ್ಠ

2. ವಿಶ್ವಾಮಿತ್ರ

3. ಇಂದ್ರ

4. ನಕ್ಷತ್ರಿಕ

47. 'ಮುತ್ತಿನ ಸತ್ತಿಗೆ' ಯು ಈ ಕುಲದ ಲಾಂಛನ.

1. ಚಂದ್ರ ವಂಶದ

2. ರಾಕ್ಷಸ ಕುಲ

3. ದೇವಕುಲ

4. ರವಿಕುಲ

48. ಮಣ್ಣು ಮೇಲೊಂದು ಮರವಾಗಿ ಇವರಿಗೆ ನೆರಳಾಗಬೇಕೆಂಬುದು ಕವಯಿತ್ರಿಯ ಆಸೆ.

1. ಪುಣ್ಯವಂತರಿಗೆ

2. ಬಡವರಿಗೆ

3. ಶ್ರೀಮಂತರಿಗೆ

4. ಮಕ್ಕಳಿಗೆ

49. ನೆಲಕ್ಕೆ ಬಿದ್ದು ಹೊರೆಯಾಗುವ ಮುನ್ನ ಕವಯಿತ್ರಿಯು ತನ್ನ \_\_\_\_\_ ಆಗಬೇಕೆಂದು ಬಯಸುತ್ತಾರೆ.

1. ಮಧ್ಯ

2. ಆರಂಭ

3. ಅಂತ್ಯ

4. ಪ್ರಖ್ಯಾತಳು

50. ಪಂಥರಿಬಾಯಿಯವರ ಜನ್ಮಸ್ಥಳ \_\_\_\_\_

1. ಕುಮುಟ

2. ಹೊನ್ನಾವರ

3. ಕಾರವಾರ

4. ಭಟ್ಕಳ

\*\*\*\*\*



**SINDHI HIGH SCHOOL, BENGALURU**  
**HALF-YEARLY EXAMINATION [2021-22]**  
**SUBJECT: SCIENCE**

**Class: IX**  
**Date: 9.10.2021**

**Max Marks: 40**  
**Time: 90 min**  
**No. of Sides: 09**

**General Instructions:**

1. The Question Paper contains three sections.
2. Section A has 24 questions. Attempt any 20 questions.
3. Section B has 24 questions. Attempt any 20 questions.
4. Section C has 12 questions. Attempt any 10 questions.
5. All questions carry equal marks.
6. There is no negative marking

**SECTION - A**

Section - A consists of 24 questions. Attempt any 20 questions from this section. The first attempted 20 questions would be evaluated.

1.	<p>The cells of the tissue which are compactly arranged without intercellular spaces and are protective is</p> <p>a) Vascular tissue                      c) Meristamatic tissue</p> <p>b) Epidermal tissue                      d) Permanent tissue</p>																				
2.	<p>Which of the given statements is not related to endoplasmic reticulum?</p> <p>a) It behaves as a transport channel for proteins between nucleus and cytoplasm.</p> <p>b) It transport materials between various regions in the cytoplasm.</p> <p>c) It is the site of ATP production.</p> <p>d) It is the site of membrane biogenesis.</p>																				
3.	<p>Read the given statements and fill in the blanks from the information given in the table</p> <p>Cardiac tissue is the tissue that is structurally and functionally similar to _____ and _____ (i) tissue respectively. It is found in the heart. It consists of the _____ (ii) with _____ (iii) .</p> <table> <tr> <th></th><th>(i)</th><th>(ii)</th><th>(iii)</th></tr> <tr> <td>a)</td><td>Squamous and stratified</td><td>cells which are found on a basement membrane</td><td>Single nucleus</td></tr> <tr> <td>b)</td><td>Striated and smooth</td><td>cells which are elongated and branched</td><td>Single nucleus</td></tr> <tr> <td>c)</td><td>Smooth and nervous</td><td>cells which are pillar like and have cilia</td><td>Many nuclei</td></tr> <tr> <td>d)</td><td>Loose and dense</td><td>cells which are spindle shaped and have tapering ends</td><td>Many nuclei</td></tr> </table>		(i)	(ii)	(iii)	a)	Squamous and stratified	cells which are found on a basement membrane	Single nucleus	b)	Striated and smooth	cells which are elongated and branched	Single nucleus	c)	Smooth and nervous	cells which are pillar like and have cilia	Many nuclei	d)	Loose and dense	cells which are spindle shaped and have tapering ends	Many nuclei
	(i)	(ii)	(iii)																		
a)	Squamous and stratified	cells which are found on a basement membrane	Single nucleus																		
b)	Striated and smooth	cells which are elongated and branched	Single nucleus																		
c)	Smooth and nervous	cells which are pillar like and have cilia	Many nuclei																		
d)	Loose and dense	cells which are spindle shaped and have tapering ends	Many nuclei																		

4.	The nerve impulse is transmitted through a neuron from a) Axon to dendrites                      c) Cyton to nerve endings b) Dendrites to nerve endings        d) Dendrites to dendrites
5.	The substance that makes the cork cells impervious to gases and water is a) Chitin        b) Lignin        c) Suberin        d) Cellulose
6.	Cell organelle involved in forming complex sugars from simple sugars is a) Endoplasmic reticulum                      b) Ribosomes c) Plastids    d) Golgi apparatus
7.	The raisins _____ due to _____ when placed in water. a) Shrink, exosmosis                                      b) Shrink endosmosis c) Swell, endosmosis                                      d) Swell, exosmosis
8.	Mitochondria and chloroplasts are unique when compared to other organelle of the cell as they possess (i) Matrix        (ii) DNA        (iii) Stroma        (iv) Ribosome a) i & ii                      b) ii & iii                      c) iii & iv                      d) ii & iv
9.	Functional segments of DNA are called a) RNA        b) Genes        c) Chromosomes        d) Nucleolus
10.	Which of the following statements are correct about meristematic tissues?  i) It is composed of cells that are able to perform only cell division.  ii) It is composed of single type of cells.  iii) It is composed of cells that are incapable of cell division.  iv) It has cells that are localised.  a) i, ii & iii    b) i, ii & iv    c) ii, iii & iv    d) i, iii & iv
11.	Which of the following classification of pure substance is incorrect? a) Boron: Metal        b) Silicon: Metalloid        c) Iodine: Non-Metal        d) Tungsten: Metal
12.	Which of the following property does not describe a compound? a) It is composed of two elements only b) It is a pure substance. c) It cannot be separated into constituents by physical means d) It has a fixed formula
13.	Which of the given activity would evolve the gas with rotten egg odour a) adding sulphuric acid to iron fillings b) adding hydrochloric acid to sulphur c) adding hydrochloric acid to the compound Iron (II) sulphide d) adding hydrochloric acid to the mixture of iron and sulphur.

14.	In the given set of chemicals identify the one which contain only compounds a) sulphuric acid, hydrogen b) calcium carbonate, chlorine c) silver, sulphur d) sulphuric acid, sugar
15.	Select the most appropriate terms to fill in the blanks below When light is passed through water containing a few drops of milk, it shows a bluish tinge. This is due to to the _____ of light by milk and the phenomenon is called _____. This indicates that milk is a _____ solution a) reflection, Tyndall Effect, true b) scattering, Tyndall, true c) reflection, Brownian movement, suspension d) Scattering, Tyndall effect, Colloidal
16.	Chalk Powder in water is an example of a) Saturated solution                      b) Unsaturated Solution c) Suspension                                d) Colloidal Solution
17.	The numerical ratio of displacement to distance for a moving object is a) always less than 1                      b) always equal to 1 c) always greater than 1                      d) always equal or less than 1
18.	Two bodies of equal masses 'm' moving with equal velocities 'v' in opposite direction collide. The resultant velocity of the combination is a) v                      b) 2v                      c) -v                      d) zero
19.	Rate of change of displacement is expressed in _____ units a) $\text{ms}^{-1}$ b) m                      c) $\text{ms}^{-2}$ d) $\text{kgms}^{-1}$
20.	According to the III law of motion, action and reaction a) always act on the same body b) always act on the different bodies in opposite direction c) have same magnitude and direction d) act on either body at normal to each other
21.	If Nishanth, is enjoying a ride on a merry-go-round which is moving at a speed of $10\text{ms}^{-1}$ . It implies that the boy is a) Exhibiting nonuniform motion b) moving with no acceleration c) in accelerated motion d) moving with uniform velocity
22.	Using a horizontal force of 200 N, we intend to move a wooden cabinet across a floor at a constant velocity. Then the magnitude of friction that will be exerted on the cabinet is a) 200N                      b) 100 N                      c) 400 N                      d) 300 N

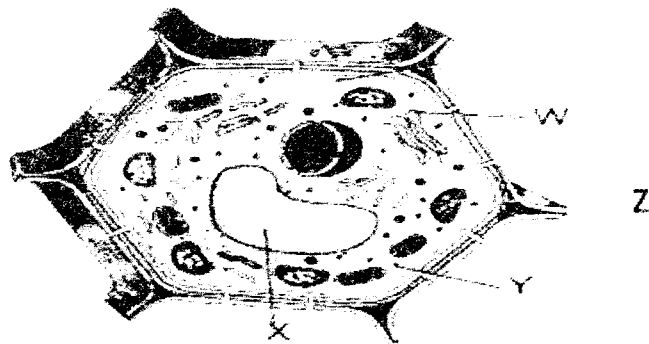
23. Which one of the following is not an example of inertia.  
 a) Luggage kept on the roof of a bus falls if it is not tied.  
 b) A fielder in the ground gradually moves backwards with the moving ball.  
 c) Dust can be removed from a carpet by beating it with a stick.  
 d) Only one carrom coin at the bottom of the pile is removed when a fast moving striker hits it.

24. Velocity of a car is  $20 \text{ ms}^{-1}$ . This can be expressed in Km/h as  
 a) 40                      b) 70                      c) 42                      d) 72

### SECTION - B

Section - B consists of 24 questions (Sl. No.25 to 48). Attempt any 20 questions from this section. The first attempted 20 questions would be evaluated.

25. Observe the given cell and match the labelling in column I and II to correlate the information given in column III.



Column I	Column II	Column III
W	i) Ribosome	A) Deeply folded inner membrane
X	ii) Golgi apparatus	B) Turgidity and rigidity to cells
Y	iii) Mitochondria	C) Synthesise proteins
Z	iv) Vacuole	D) Pack products in vesicles

- a) W - ii, D ; X - iv, B ; Y - i, C ; Z - iii, A  
 b) W - iii, B ; X - ii, A ; Y - iv, D ; Z - i, C  
 c) W - iv, C ; X - i, B ; Y - ii, D ; Z - iii, A  
 d) W - ii, D ; X - iv, B ; Y - iii, A ; Z - i, C

26. A boy met with an accident in which his leg bones were dislocated. Which among the following tissue may have been affected?

- a) Tendon    b) Skeletal muscle    c) Ligament    d) Areolar tissue

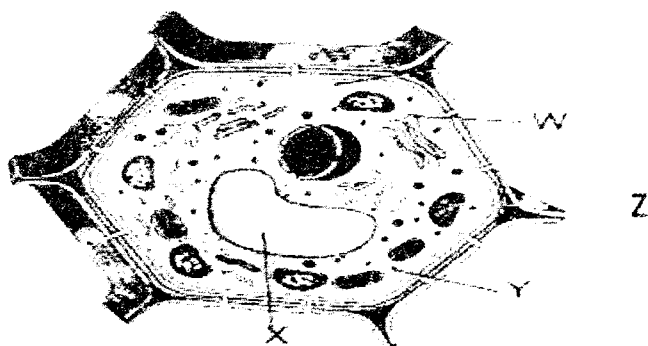


23. Which one of the following is not an example of inertia.  
 a) Luggage kept on the roof of a bus falls if it is not tied.  
 b) A fielder in the ground gradually moves backwards with the moving ball.  
 c) Dust can be removed from a carpet by beating it with a stick.  
 d) Only one carrom coin at the bottom of the pile is removed when a fast moving striker hits it.
24. Velocity of a car is  $20 \text{ ms}^{-1}$ . This can be expressed in Km/h as  
 a) 40                      b) 70                      c) 42                      d) 72

### SECTION - B

Section - B consists of 24 questions (Sl. No.25 to 48). Attempt any 20 questions from this section. The first attempted 20 questions would be evaluated.

25. Observe the given cell and match the labelling in column I and II to correlate the information given in column III.

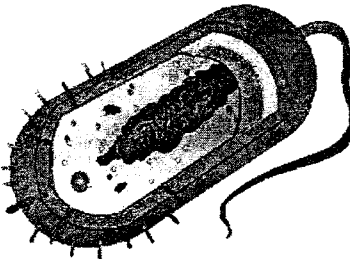
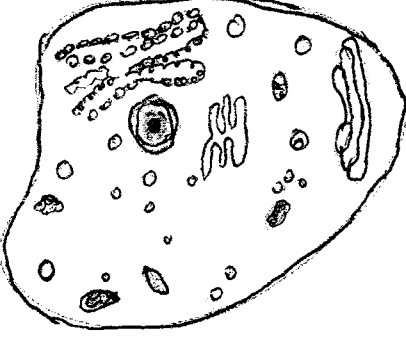


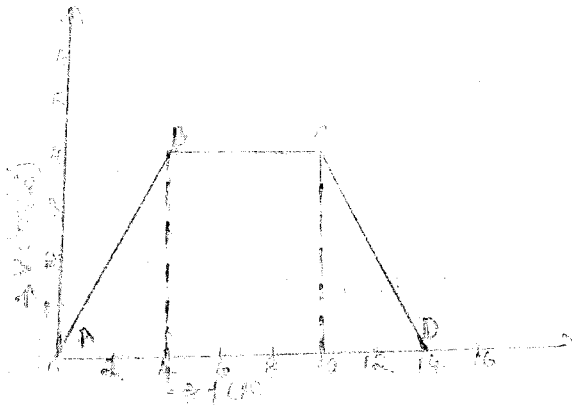
Column I	Column II	Column III
W	i) Ribosome	A) Deeply folded inner membrane
X	ii) Golgi apparatus	B) Turgidity and rigidity to cells
Y	iii) Mitochondria	C) Synthesise proteins
Z	iv) Vacuole	D) Pack products in vesicles

- a) W - ii, D ; X - iv, B ; Y - i, C ; Z - iii, A  
 b) W - iii, B ; X - ii, A ; Y - iv, D ; Z - i, C  
 c) W - iv, C ; X - i, B ; Y - ii, D ; Z - iii, A  
 d) W - ii, D ; X - iv, B ; Y - iii, A ; Z - i, C

26. A boy met with an accident in which his leg bones were dislocated. Which among the following tissue may have been affected?  
 a) Tendon    b) Skeletal muscle    c) Ligament    d) Areolar tissue

27.	A flowering plant produced 100 seeds and all the seeds germinated into new plants. If the plant cell has 40 chromosomes, then the chromosomes present in the stamens and seeds are a) 20, 40      b) 40, 40      c) 40, 20      d) 20, 20
28.	Which one of the following tissues is commercially exploited to obtain Hemp and Jute ? a) Parenchyma      c) Sclerenchyma b) Aerenchyma      d) Mesenchyma
29.	Movement of materials across the membrane in animals occurs due to i) Difference in concentrations of water inside and outside the cell. ii) Ability of the membrane to selectively transport substances. iii) Amount of dissolved salts in water. iv) Flexibility of the membrane. a) i , ii, iii      b) ii, iii, iv      c) i, ii, iv      d) All the above
30.	This tissue has different types of cells embedded in a jelly like fibrous matrix. Identify the right pair of tissues from the following a) Blood and Lymph      c) Tendon and ligament b) Areolar and Adipose      d) Bone and Cartilage
<p><b>Question No. 31 to 35 consist of two</b> statements – Assertion (A) and Reason (R). Answer these questions selecting the appropriate option given below:</p> <p>a) Both A and R are true and R is the correct explanation of A b) Both A and R are true and R is not the correct explanation of A c) A is true but R is false d) A is False but R is true</p>	
31.	<p><b>Assertion:</b> When a cell is placed in a hypotonic solution, cell walls apply equal and opposite pressure on the swelling cytoplasm.</p> <p><b>Reason:</b> Cells can withstand greater changes in the surrounding medium than animal cells.</p>
32.	<p><b>Assertion:</b> Parenchyma cells with the presence of air cavities are called Aerenchyma cells. .</p> <p><b>Reason:</b> They provide flexibility to the plants.</p>
33.	<p><b>Assertion :</b> Ice, water and water vapour look different and display different physical properties.</p> <p><b>Reason :</b> Ice, water and water vapour are same chemically.</p>
34.	<p><b>Assertion:</b> A train has more inertia than a cart.</p> <p><b>Reason:</b> The inertia is more if mass of an object is more.</p>

44.	<p>A dumbbell of mass 10kg falls from a height of 0.8m with a downward acceleration of <math>10\text{m/s}^2</math>. The momentum it transfers to the floor is....</p> <p>a) <math>14\text{kgm/s}</math>    b) 40 N    c) 14 N    d) <math>40\text{kgm/s}</math></p>
45.	<p>Glass ware and electronic gadgets like TV or computer are packed with bubble wrap and thermacol by manufacturers before transporting. This is done to</p> <p>a) to decrease weight during transit b) to increase weight during transit c) to decrease the rate of change of momentum d) to increase the rate of change of momentum</p>
46.	<p>A constant force acts on an object of mass 5 kg for a duration of 2 s. It increases the objects velocity from 3 m/s to 7 m/s. Then the magnitude of the applied force is</p> <p>a) 10 N    b) 20N    c) 25 N    d) 17 N</p>
47.	<p>Which of the following statements do not support Galileo's concept of motion?</p> <p>a) Unbalanced force is required to change the motion of the object (marble) b) No net force is needed to sustain the uniform motion of the marble. c) The marble will remain at rest when force is not applied. d) If the inclination of the planes on both sides are equal the marble attains the same height on both sides.</p>
48.	<p>Identify the common features observed between A and B.</p> <div style="text-align: center;">   </div> <p style="text-align: center;"><b>A</b>                      <b>B</b></p> <p> i) Nucleus, Endoplasmic reticulum  ii) Ribosomes, Flagella  iii) Mitochondria, Chloroplast  iv) DNA, RNA </p> <p> a) ii, iii                      b) i, iii                      c) ii, iv                      d) iii, iv </p>

55.	Which one of the following will NOT show Tyndall effect: a) True solution    b) Suspension    c) Colloids    d) none
56.	Which one of the following is a homogeneous mixture: a) True solution    b) Suspension    c) Colloids    d) none
Case	<p>Sudhanshu drives his bike along a straight road from his house (A) to his daughter's school (D). The relation between the speed of the bike taken by him is represented in the graph.</p> <p>Study the given graph and answer the following questions</p> 
57.	The part of the graph which shows accelerated motion of the bike is a) B C    b) A B    c) C D    d) A D
58.	<p>If Y axis represents displacement (m) instead of velocity, then C D represents</p> <p>a) Bike at rest near school for four seconds. b) Returning back home from school with non - uniform speed. c) Returning back home from school with uniform speed. d) Returning back home from school with varied acceleration.</p>
59.	The distance travelled by the Sudhanshu at the end of the journey is a) 40 m    b) 400 m    c) 80 m    d) 28 m
60.	<p>The value of acceleration along B C is</p> <p>1 m/s<sup>2</sup>    b) 0 m/ s<sup>2</sup>    c) 0 m/s    d) - 1 m/s</p>

\*\*\*\*\*



**SINDHI HIGH SCHOOL, HEBBAL**  
**HALF YEARLY EXAMINATION (2020-21)**  
**SUBJECT- COMPUTER SCIENCE**

**Class : IX**

**Date : 1-10-2021**

**Max Marks:30**

**Timings: 1 Hr**

**General Instructions:**

- Read all the questions carefully
- All the questions are compulsory

- 
1. A coded html command that indicates how a part of a webpage is displayed is called \_\_\_\_\_
    - a. Attributes
    - b. Tag
    - c. Style
    - d. All of these
  2. The number list can be created by \_\_\_\_\_ tag
    - a. <li>
    - b. <ol>
    - c. Both a and b
    - d. None of these
  3. Factors affect how an html document looks on the monitors that do not include \_\_\_\_\_
    - a. Operating system
    - b. Window size
    - c. Color depth
    - d. Html tag
  4. With which html tag do you apply attributes that modify text size font face and color?
    - a. <font>
    - b. <mod>
    - c. <f>
    - d. <text>
  5. Besides, <B> another way to make text bold is what?
    - a. <strong>
    - b. <dark>
    - c. <Fat>
    - d. foot
  6. To start a list at the count of 3, use which?
    - a. <ol start="3">
    - b. <ol begin="3">
    - c. <ol list='5'>
    - d. None of these

7. What is the correct HTML tag for inserting a line break?
- a. <break>
  - b. <lb>
  - c. <pre>
  - d. <br>
8. Who is making the Web standards?
- a. The World Wide Web Consortium
  - b. Internet Explorer
  - c. Netscape Navigator
  - d. Arpanet
9. Which of the following heading tags will cause a browser to render text at the largest default size?
- a. <h3>
  - b. <h2>
  - c. <h5>
  - d. <h4>
10. Which of the following is the root tag of the HTML document?
- a. <body>
  - b. <head>
  - c. <title>
  - d. <html>
11. Which HTML tag is used to display the power in expression, i.e.,  $(x^2 - y^2)$ ?
- a. <sup>
  - b. <sub>
  - c. <p>
  - d. None of the above
12. If a tag has its corresponding closing tag, such tags are called,
- a. container tags
  - b. paired tags
  - c. self-closing
  - d. None of above
13. A paragraph can be aligned left, right, center or justified using <p> tag with attribute
- a. Text align
  - b. Alignment
  - c. Align
  - d. Text direction

**14. Rohit, grade 9 student facing coding error help him to identify the error and select the corrected html code:**

`<body background = "red">`

`<font type= "arial">`

- a. `<body bgcolor = "red"> <font face= "arial">`
- b. `<body bgcolor = red> <font face= arial>`
- c. Both a and b
- d. None of these

**15. Reena, grade 9 student facing confusion w. r. t domain name(s) and URL's, help her to identify the correct URL's and domain names.**

1. <http://www.cbse.nic.in>

2. 192.168.0.1

3. <http://www.khoj.com>

4. doYogaEveryday.com

- a. 1 and 2 are URL's
- b. 2 and 4 are domain names
- c. 1,3 are URL's and 4 is domain name
- d. None of these

**16. ARPANET stands for-**

- a) Advanced Real Projects Air Network
- b) Advanced Research Preparation Agency Network
- c) Advanced Recruitment Process Agency Network
- d) Advanced Research Projects Agency Network

**17. Web servers are:**

- a) IP addresses
- b) Computer systems
- c) Webpages of a site
- d) A medium to carry data from one computer to another

**18. What does the webserver need to send back information to the user?**

- a) Home address
- b) Domain name
- c) IP address
- d) Both b and c

**19. What is the full form of HTTP?**

- a) Hypertext Transfer Protocol
- b) Hypertext Transfer Procedure
- c) Hyperlink Transfer Protocol
- d) Hyperlink Transfer Procedure

**27. Who is Known as the father of World Wide Web (WWW)?**

- a) Robert Cailliau
- b) Tim Thompson
- c) Charles Darwin
- d) Tim Berners-Lee

**28. The action of working blog is called**

- a) blogging
- b) blog
- c) web blog
- d) none of the above

**29. Apache tomcat, lighttpd, jigsaw and sun java system are examples for**

- a) web server
- b) web server software
- c) web sites
- d) webpages

**30. By default <HR> produces a \_\_\_\_\_ rule?**

- a) 2-D
- b) 3-D
- c) Both a and b
- d) None of the above

\*\*\*\*\*